

105年外勤國文 試題	3
105年外勤國文 詳解	9
外勤國文 模擬試題	15
外勤國文 模擬試題詳解	18
101年外勤英文 試題	21
101年外勤英文 詳解	24
英文模擬試題(1)	27
英文模擬試題詳解(1)	30
英文模擬試題(2)	33
英文模擬試題詳解(2)	37
105年郵政法大意及交通安全常識 試題	41
105年郵政法大意及交通安全常識 詳解	48
107年郵政外勤臺灣自然及人文地理 試題	54
107年郵政外勤臺灣自然及人文地理 詳解	59
郵政外勤臺灣自然及人文地理 模擬試題	64
郵政外勤臺灣自然及人文地理 模擬試題詳解	78

105年外勤國文 試題

- 下列各組「」內的字，讀音相同的是：
(A)「侏」名 / 瓜「瓟」綿綿
(B)「邪」佞 / 驚「訝」不已
(C)「鶴」鶻 / 「闍」然媚世
(D)地「氈」 / 「饘」粥糊口
- 下列成語，前後意思相同的是：
(A)時移世變 / 星移斗轉
(B)不分軒輊 / 不明就裡
(C)甌塵釜魚 / 鐘鳴鼎食
(D)兔走烏飛 / 日居月諸
- 「人怕出名，豬怕肥」這解釋是「人怕出名就好像豬怕肥」，在日常生活中常用這種比喻的意涵；下列何者也是同樣的用法？
(A)人善被人欺，馬善被人騎
(B)跑得了和尚，跑不了廟
(C)不經一事，不長一智
(D)賣布不帶尺——存心不量
- 在日常生活中，應用文是我們常使用的，下列何者應用錯誤？
(A)北宋 趙明誠與李清照二人之間的關係，可用「鶼鶼情深」來形容
(B)東晉 王羲之與王徽之的關係，旁人可用「賢喬梓」來稱呼
(C)明 歸有光在母親過世後，為悼念其母高尚品德，所以寫一篇「先妣事略」
(D)以孔子這樣的名人過世，我們若要送輓辭，可贈「懿德長昭」
- 「觴」字當名詞用，作「酒杯」解釋；若作動詞用，可解釋「飲酒」。下列「」內的觴，哪一個是當「動詞」用？
(A)又有清流激湍，映帶左右，引以為流「觴」曲水
(B)一「觴」一詠，亦足以暢敘幽情
(C)引「觴」滿酌，頽然就醉
(D)齊侯以晏子之「觴」而觴桓子
- 某人來到某處，見一幅對聯寫著：「德配天地，泗水文章昭日月 / 道貫古今，杏壇禮樂冠華夷」，請問此對聯所描述的人物應該是：
(A)孔子 (B)孟子 (C)荀子 (D)莊子
- 有「臺灣新文學之父」美譽的小說家_____，終其一生，以文學作品對抗日本的「殖民統治」；〈一桿稱仔〉是其代表作之一。此空格最適合填入的作家是：
(A)吳晟 (B)徐志摩 (C)賴和 (D)洪醒夫

- 8 顧炎武在〈廉恥〉有這一段話：「頃讀《顏氏家訓》有云：『齊朝一士大夫，嘗謂吾曰：「我有一兒，年已十七，頗曉書疏。教其鮮卑語及彈琵琶，稍欲通解，以此伏事公卿，無不寵愛。」吾時俯而不答。』」顧炎武的「俯而不答」表示對這位齊朝大夫的看法是：
- (A)無恥之恥，無恥也
(B)行己有恥，有所不取
(C)士而無恥，故無所不為
(D)其怨乎！己所不欲，勿施於人
- 9 在文句中，常用到「偏義複詞」，但意思只取其中一字之意，如「老闆從不惜員工的『去留』。」這意思偏重在「去」之意。下列何者也是同樣的用法？
- (A)宮中府中，俱為一體，陟罰「臧否」，不宜異同
(B)這個想法在她心中已經「醞釀」許久
(C)今有一人，入人「園圃」，竊其桃李
(D)就別再嘔氣了，握個手泯「恩仇」吧
- 10 蘇軾〈日喻〉：「道之難見也甚於日。」句中的「於」是「比」的意思。下列何者也做同樣的解釋？
- (A)不拘「於」時，請學於余，余嘉其能行古道
(B)從先人還家，「於」舅家見之，十二三矣
(C)今之眾人，其下聖人也亦遠矣，而恥學「於」師
(D)弟子不必不如師，師不必賢「於」弟子
- 11 「(甲)忽羯鼓一聲，歌喉口發(乙)蘇秦對其嫂嫂的前口後恭，深不以為然。」請於二個口的空格內，選出正確的用字。
- (A)倨 / 詎 (B)劇 / 據 (C)遽 / 倨 (D)詎 / 遽
- 12 「四海之內皆兄弟」是常用的一句詞，下列何者與「四海」之意無關？
- (A)宇內 (B)八荒 (C)九五 (D)六合
- 13 某航空公司為招攬旅客，欲製作一系列廣告，下列哪一個標題最適合？
- (A)咫尺天涯 (B)天涯比鄰 (C)乘風破浪 (D)不脛而走
- 14 魏武嘗過曹娥碑下，楊修從。碑背上見題作「黃絹幼婦外孫齏白」八字。這八字意謂：
- (A)少婦美女 (B)絕妙好辭 (C)文彩絕佳 (D)愛美少女
- 15 關漢卿〈四塊玉·閒適〉：「南畝耕，東山臥，世態人情經歷多。閒將往事思量過，賢的是他，愚的是我，爭什麼？」短短的曲詞中，用了兩個古人的典故，這二人是：
- (A)蘇軾、辛棄疾 (B)屈原、賈誼 (C)韓愈、柳宗元 (D)陶淵明、謝安
- 16 莊子〈讓王〉：「曾子居衛，緼袍無表，顏色腫噲，手足胼胝；三日不舉火，十年不製衣。」這段在描寫曾子的處境是：
- (A)食前方丈 (B)身無長物 (C)披髮纓冠 (D)削足適履

- 17 彭邦禎〈月之故鄉〉：「天上一個月亮 / 水裡一個月亮 / 天上的月亮在水裡 / 水裡的月亮在天上 / 低頭看水裡 / 抬頭看天上 / 看月亮，思故鄉 / 一個在水裡 / 一個在天上」，這首詩的旨趣，與下列何者有異曲同工之妙？
(A)不知何處吹蘆管，一夜征人盡望鄉
(B)但使龍城飛將在，不教胡馬度陰山
(C)美人捲珠簾，深坐顰蛾眉
(D)丁丁向晚急還稀，啄遍庭槐未肯歸
- 18 「櫛風沐雨」、「懸樑刺骨」、「首如飛蓬」、「朝如青絲暮如雪」、「萬條垂下綠絲絲」上面詞語中，有幾個是隱藏「頭髮」之意？
(A)二個 (B)三個 (C)四個 (D)五個
- 19 文章中常見到自稱時，用「自謙」的詞語，下列何者「未」用此自謙的詞語？
(A)橫「不敏」，昭告神明，發誓述作
(B)「足下」方溫經，猥不敢相煩
(C)庶竭「駑鈍」，攘除姦凶，興復漢室，還于舊都
(D)凡我多士，及我友朋，惟仁惟孝，義勇奉公，以發揚種性，此則「不佞」之職也
- 20 程晉芳曾對儒林外史作者吳敬梓的際遇，說：「外史紀儒林，刻劃何工妍！吾為斯人悲，竟以稗說傳。」這「稗說」的意思是：
(A)小麥成長的意思
(B)拜官進爵的意思
(C)店鋪商販的意思
(D)街談巷語，瑣碎言論的意思
- 21 「繁飾禮樂以淫人，久喪偽哀以謾親」，這種說法是出自「九流十家」的哪一家？
(A)儒家 (B)道家 (C)墨家 (D)法家
- 22 如果要造一句有關「風聲」的疊詞，我們會選用下列哪一個詞？
(A)呦呦 (B)關關 (C)幽幽 (D)颯颯
- 23 魏徵〈諫太宗十思疏〉：「何必勞神苦思，代下司職，役聰明之耳目，虧無為之大道哉？」這是一句反問句，意在凸顯治國要道是：
(A)風行草偃 (B)鳴琴垂拱 (C)化性起偽 (D)刑賞不察
- 24 下列各組文句，何者前後文意相通？
(A)寄蜉蝣於天地，渺滄海之一粟 / 人生寄一世，奄忽若飄塵
(B)逝者如斯，而未嘗往也 / 逝者如斯夫，不舍晝夜
(C)月出於東山之上，徘徊於斗牛之間 / 河漢清且淺，相去復幾許
(D)飄飄乎如遺世獨立，羽化登仙 / 俱懷逸興壯思飛，欲上青天覽明月

- 25 下列哪一段詩句最能詮釋：「人類一直在追逐著可望不可及的理想」？
- (A)悄悄的我走了 / 正如我悄悄的來 / 我揮一揮衣袖 / 不帶走一片雲彩
 (B)我達達的馬蹄是美麗的錯誤 / 我不是歸人，是個過客
 (C)你站在橋上看風景 / 看風景人在樓上看你 / 明月裝飾了你的窗子 / 你裝飾了別人的夢
 (D)地平線長久在遠處退縮地引逗著我們 / 活著。不斷地追逐 / 感覺它已接近而抬眼還是那麼遠離
- 26 修辭學中有「借代」用法，如「干戈」借代為「戰爭」。下列「」內，何者是借代用法？
- (A)東邊日出西邊雨，道是無「晴」卻有「晴」
 (B)行年四歲，「舅奪母志」
 (C)猥以微賤，當侍「東宮」
 (D)遠道不可思，「夙昔」夢見之
- 27 下列「」內的詞語，何者前後意思相同？
- (A)覺履底漸熱，視草色萎黃無「生意」 / 「生意」興隆
 (B)念天地之「悠悠」，獨愴然而涕下 / 杜「悠悠」之口
 (C)慮或相失，各聽「呼應」聲為近遠 / 文意連貫，前後「呼應」
 (D)白氣縷縷，如山雲乍吐，「搖曳」青嶂間 / 迎風「搖曳」
- 28 下列有關「親情」的成語，何者著眼於「子女對父母的態度」？
- (A)烏鳥私情 (B)作育菁莪 (C)鼓盆之戚 (D)舐犢情深
- 29 歐陽修〈醉翁亭記〉中：「日出而林霏開，雲歸而巖穴暝，晦明變化者。」這「雲歸而巖穴暝」是指一天中，最接近什麼時刻？
- (A)薄暮 (B)平明 (C)亭午 (D)夜闌
- 30 「束髮之年」就是指十五歲，下列何者之年齡正確？
- (A)周晬之齡 —— 二十歲
 (B)期頤之壽 —— 四十歲
 (C)強仕之年 —— 五十歲
 (D)花甲之年 —— 六十歲
- 31 下列「覺」字，何者之音、義均正確？
- (A)夜大雪，眠「覺」，開室，命酌酒 —— ㄋㄧㄠˋ；睡覺
 (B)我才不及卿，乃「覺」三十里 —— ㄋㄧㄠˊ；相差
 (C)實迷途其未遠，「覺」今是而昨非 —— ㄋㄧㄠˋ；量詞，睡眠一次
 (D)使先知「覺」後知 —— ㄋㄧㄠˊ；喚醒，使覺醒
- 32 下列何者不宜作為「感謝」的用語？
- (A)刻骨銘心 (B)銘感五內 (C)雲天高誼 (D)德業長昭
- 33 下列何者符合「談笑有鴻儒，往來無白丁」的「白丁」？
- (A)作白日夢的人 (B)白目的人 (C)穿白色衣服的壯丁 (D)沒有知識的俗人

- 34 「姑妄言之姑聽之，豆棚瓜架雨如絲。料應厭作人間語，愛聽秋墳鬼唱詩。」最有可能是哪本書的題辭？
(A)紅樓夢 (B)老殘遊記 (C)儒林外史 (D)聊齋誌異
- 35 春節祭祖、清明掃墓，這些習俗表達了何種意義？
(A)祭之厚，不如養之薄也
(B)慎終追遠，民德歸厚矣
(C)但願人長久，千里共嬋娟
(D)訪舊半為鬼，驚呼熱中腸
- 36 「五日京兆」的意思，下列說明何者正確？
(A)指一時的現象 (B)比喻片刻的富貴 (C)指即將赴京任職者 (D)比喻任職不能長久者
- 37 對長官寫信，信封上的啟封詞可以用：
(A)大啟 (B)安啟 (C)鈞啟 (D)收啟
- 38 「世界上最寒冷的地方，是只為自己著想，而從不為他人著想的心。」這句話是在批評哪一種人？
(A)陰險狡詐的人 (B)自私自利的人 (C)缺乏恆心的人 (D)膽小畏縮的人
- 39 「風行草偃」意謂：
(A)比喻上位者能以德化民
(B)比喻良莠不齊
(C)形容風大草長
(D)比喻騎牆派的小人，沒有堅定的個人立場
- 40 下列成語何者用字完全正確？
(A)插血為盟 (B)頂頂大名 (C)取高和寡 (D)愛屋及烏
- 41 「東施效顰」一詞，下列說明何者正確？
(A)比喻勉強自己去做不願做的事
(B)形容在紛亂、繁忙之中，仍然能夠顯得從容不迫
(C)比喻不衡量本身的條件，而盲目胡亂的模仿他人，以致收到反效果
(D)對某一壞人所做的壞事處以嚴重的刑罰，來警告其他想要仿效做壞事的人
- 42 「父母全而生之，子全而歸之，可謂孝矣；不虧其體，可謂全矣。」其意謂：
(A)生死有命，富貴在天
(B)孝子應忠於國家
(C)身體髮膚，受之父母，不敢毀傷，始足為孝
(D)孝應尊榮其親
- 43 李斯〈諫逐客書〉說：「泰山不讓土壤，故能成其大；河海不擇細流，故能就其深。」意謂：
(A)大材小用 (B)自強不息 (C)有容乃大 (D)固若金湯

44 有關婚喪慶宴的用詞，下列何者錯誤？

- (A)桃觴之宴，是指賀壽誕之宴席
- (B)湯餅之宴，是指新生兒週歲之宴席
- (C)于歸之喜，是指女兒出嫁
- (D)喬遷之宴，是賀遷居之用

45 某甲問乙：「令堂可好？」乙回答：「托你的福，□□身體健康，一切安好。」缺空的地方宜填入：

- (A)內人 (B)家母 (C)家嚴 (D)祖父

46 下列文句何者用字完全正確？

- (A)經過一整年的忙錄工作，他終於被拔擢為正式職員
- (B)只要再接再勵，努力不懈，任何人都可能獲得成功
- (C)這件刑案的案情極撲朔迷離，考驗警方的辦案能力
- (D)父母從小就應該貫輸子女正確的做事態度與價值觀

47 下列解說歇後語的成語，何者正確？

- (A)劉姥姥進大觀園／一見如故
- (B)孔夫子拜師／一塵不染
- (C)小和尚唸經／嘴硬心軟
- (D)王羲之寫字／入木三分

48 下列成語，何者與「讀書」無關？

- (A)手不釋卷 (B)學富五車 (C)開卷有益 (D)虛應故事

49 「金玉其外，敗絮其中。」可用下列哪一句話來表示？

- (A)金玉滿堂 (B)移花接木 (C)良莠不齊 (D)虛有其表

50 蘇東坡說：「可使食無肉，不可居無竹。無肉令人瘦，無竹令人俗。」依據本詩詩意，下列何者正確？

- (A)俗人喜歡觀賞竹，瘦子喜歡吃肥肉
- (B)作者認為口腹之欲不如心靈涵養重要
- (C)食瘦肉、居竹屋，是最理想的生活方式
- (D)「東坡肉」鮮美可口的要訣在於加入竹筍的甘甜

105年外勤國文 詳解

【問題1】 答案：D

- (A)「佚」名 / 瓜「瓞」綿綿：一` / ㄉㄛˊ一ㄝˊ`
(B)「邪」佞 / 驚「訝」不已：ㄊ一ㄝˊ ㄋㄛˊ一ㄥˋ` / 一ㄚˋ`
(C)「鶴」鶻 / 「闍」然媚世：ㄇㄛˊ ㄛˊㄨㄛˊ / 一ㄇㄛˊ
(D)地「氈」 / 「饘」粥糊口：ㄗㄛˊ

【問題2】 答案：D

- (A)「時移世變」：時日變遷，世事隨之改變。「星移斗轉」：星斗移位、轉向。比喻時光的流逝。
(B)「不分軒輊」：相比較的結果，分不出高下。「不明就裡」：不清楚、不了解事件的內情。
(C)「甑塵釜魚」：指漢朝范冉家境清苦，久不能燒飯，以致炊器積滿塵埃，鍋子生蠹魚。比喻生活極為清寒困苦。「鐘鳴鼎食」：古代富貴人家吃飯時，擊鐘為號，列鼎而食。形容生活極為奢華。
(D)「兔走烏飛」：古代傳說月亮中有玉兔，太陽裡有金烏。比喻日月運行，光陰快速流逝。「日居月諸」：居、諸，為語氣助詞。日居月諸指太陽和月亮，後人多用為感嘆光陰的逝去。

【問題3】 答案：A

- (A)人善被人欺，馬善被人騎：人過於老實，便會受人欺侮，如同馴良的馬常被人騎一般。此為比喻的意涵。

【問題4】 答案：D

- (A)趙明誠與李清照是夫妻。
(B)王羲之與王徽之是父子，王徽之是王羲之的第五子。
(C)先妣：先母。
(D)輓辭「懿德長昭」用於老年女喪。

【問題5】 答案：B

- (A)流觴曲水：在上游放酒杯，任它順水流下，停在何處，則由某人取酒杯而飲。(酒杯)
(B)一觴一詠：一邊飲酒，一邊賦詩。(飲酒)
(C)引觴滿酌：舉起酒杯斟滿了酒。(酒杯)
(D)齊侯以晏子之觴(酒杯)而觴(罰喝酒)桓子：齊侯就用晏子的酒杯，罰桓子喝酒。

【問題6】 答案：A

德配天地，泗水文章昭日月；道貫古今，杏壇禮樂貫華夷：意指孔夫子品德與天地同輝，學識超越古今。孔子講學於洙泗（魯文化代稱）、作春秋、周遊列國，人稱至聖、聖之時者、素王。

【問題7】 答案：C

賴和：台灣日治時期重要的作家，是最具代表性的民族詩人，被讚譽為「台灣的魯迅」，尊稱其為「臺灣新文學之父」。

【問題8】 答案：C

語釋：我最近閱讀顏氏家訓，其中有段內容說：「齊朝有一個士大夫，曾經告訴我說：『我有一個兒子，年紀已經十七歲了，略微懂得一些書表奏章，教他說鮮卑話，以及彈奏琵琶，也快要熟練理解了，憑著這些本事，去侍奉王公卿相，沒有不疼惜他的。』我當時低著頭不回答。

(C)士而無恥，故無所不為：士大夫如果沒有羞恥心，所以沒有什麼不敢做。

【問題9】 答案：D

(A)臧否：反義複詞，臧(好)否(不好)。

(B)醞釀：同義複詞，醞(製酒)釀(製酒)。

(C)園圃：同義複詞，園(種植花木果蔬的地方)圃(種植花木果蔬的地方)。

(D)恩仇：偏義複詞，恩(襯字)仇(仇恨)。

【問題10】 答案：D

(A)在。

(B)在。

(C)向。

(D)置於形容詞之後，表示比較。

【問題11】 答案：C

前倨_レ後恭：倨：傲慢；恭：恭敬。以前傲慢，後來恭敬。形容對人的態度改變。

歌喉遽發：指突然間傳出歌聲。

【問題12】 答案：C

(C)九五：指帝位。舊指帝王的尊位。

【問題13】 答案：B

(A)咫尺天涯：比喻相距雖近，卻不能相見，如同相隔千里。

(B)天涯比鄰：雖然相隔極遠，但近如鄰居一樣。

(C)乘風破浪：船隻乘著風勢破浪前進。比喻排除困難，奮勇前進。

(D)不脛而走：沒有腿卻能跑。比喻事物無需推行，就已迅速地傳播開去。

【問題14】 答案：B

黃絹：染色的絲(系)，為「絕」幼婦：少女之意，為「妙」外孫：女兒生的孩子，為「好」

齏臼：放置(收受)辛辣物的容器，古字為「辭」(同辭)

四字合在一起：「絕妙好辭」。

【問題15】 答案：D

南畝耕：古詩文中「南畝」泛指田地。而為何不是北畝或其他，是因為南坡向陽，利於農作物生長。「南畝」體現著詩人的美好願望，是詩人的一種審美選擇。陶淵明：「躬耕南畝，歸去來兮！」。

東山臥：據《晉書·謝安傳》記載，謝安早年曾辭官隱居會稽之東山。後用「東山」一詞借代為隱居。

【問題16】 答案：B

曾子居住在衛國，用亂麻作為絮裡的袍子已經破破爛爛，滿臉浮腫，手和腳都磨出了厚厚的老繭。他已經三天沒有生火做飯，十年沒有添制新衣，正一正帽子帽帶就會斷掉，提一提衣襟臂肘就會外露，穿一穿鞋子鞋後跟就會裂開。

身無長物：除自身外再沒有多餘的東西，形容貧窮。

【問題17】 答案：A

(A)不知何處吹蘆管，一夜征人盡望鄉：不知何處吹起淒涼的蘆管，一夜間徵人個個眺望故鄉。指「邊塞、思鄉」。

(B)但使龍城飛將在，不教胡馬度陰山：倘若攻襲龍城的衛青和飛將軍李廣而今健在，絕不許匈奴南下牧馬越過陰山。指「邊塞、愛國」。

(C)美人捲珠簾，深坐顰蛾眉：美人兒捲起珠簾等待等待，一直坐著把雙眉緊緊鎖閉。指「閨怨」。

(D)丁丁向晚急還稀，啄遍庭槐未肯歸：到了晚上，啄木鳥啄木的聲音還丁丁冬冬，一會兒急促，一會兒稀疏。啄遍了院子中的每一棵槐樹，仍不肯輕易離去。指「寫鳥」。

【問題18】 答案：C

「櫛風沐雨」：櫛，梳頭髮；沐，洗頭髮。風梳髮，雨洗頭。形容人經常在外面不顧風雨地辛苦奔波。

「懸樑刺骨」：蘇秦讀書欲睡，將頭髮用繩子綁在屋樑上以防止打瞌睡。

「首如飛蓬」：頭髮散亂像飛散的蓬草。比喻無心化妝打扮。

「朝如青絲暮如雪」：早晨如青絲般烏黑，傍晚白得如雪。青絲：黑髮。

「萬條垂下綠絲絛」：詠柳。

故除了「萬條垂下綠絲絛」為詠柳，其餘皆隱含頭髮。

【問題19】 答案：B

(A)不敏：不聰明。

(B)「足下」方溫經，猥不敢相煩：您正在讀經書，我不敢麻煩你。

(C)駑鈍：才能低下愚鈍，常用為自謙之辭。

(D)不佞：自謙、不才。

【問題20】 答案：D

稗說，也稱稗說體，是高麗後期出現的類似筆記類的文學體裁。雖然稗說與正史、地理志、寓言集等相比顯得「不正規」，但其豐富的內容和靈活的形式，也彌補了專著的不足，對研究朝鮮古代歷史、地理、文化有著重要的參考價值。此外，稗說體散文中有關志怪、傳說、笑話等部分故事性較強，為此後小說的產生與發展起到了積極的意義。

【問題21】 答案：C

墨家提出對儒家的種種批評，不贊成儒家的一些主張。「非儒篇」中認為儒者繁飾禮樂以淫人，久喪偽哀以謾親，貪於飲食，惰於作務，使人民陷於飢寒，危於凍餒，不義且無利。實際上儒家重禮，本旨就是在求長幼尊卑各有次第；何況儒家最重視孝道，服喪只是禮的一種表現而已。尤其儒家秉承「知其不可而為之」的原則，決不會有只相信命定，而不努力負責任事的意思。

【問題22】 答案：D

(A)呦呦一又：形容鹿鳴聲。

(B)關關々Xマ：形容鳥鳴的聲音。

(C)幽幽一又：深遠的樣子。聲音或光線微弱的樣子。

(D)颯颯△Y`：形容風聲。

【問題23】 答案：B

魏徵〈諫太宗十思疏〉：「何必勞神苦思，代下司職，役聰明之耳目，虧無為之大道哉？」：何必勞苦自己的精神，代替屬下管理職務，勞碌聰明的耳目，損害清靜無為的至道呢？

- (A)風行草偃：在上位者施行德政以教化人民，使人民順從。
- (B)鳴琴垂拱：比喻無為而治。
- (C)化性起偽：用後天的人為學習來改變先天的人性。
- (D)刑賞不察：刑罰與獎賞。

【問題24】 答案：A

- (A)寄蜉蝣於天地，渺滄海之一粟：生命短暫渺小。人生寄一世，奄忽若飄塵：生命短暫渺小。
- (B)逝者如斯，而未嘗往也：世間事如流水般，雖不斷流逝，但本體不變。代表萬物不變。逝者如斯夫，不舍晝夜：時光如流水！日夜不停留。勉勵人要珍惜光陰。
- (C)月出於東山之上，徘徊於斗牛之間：月出東山，徘徊在鬥宿與牛宿之間。純敘述景色。河漢輕且淺，相去復幾許：河漢(銀河)清淺，相隔不遠卻不可逾越。描述牛郎與織女相隔不遠卻不能相見。
- (D)飄飄乎如遺世獨立，羽化登仙：根據赤壁賦前文，是指月夜泛舟，有飄飄欲仙，遺世獨立之感。俱懷逸興壯思飛，欲上青天覽明月：兩人皆由共同的志趣、理想和抱負，描寫二人的友誼之深。

【問題25】 答案：D

(D)地平線長久在遠處退縮地引逗著我們 / 活著。不斷地追逐 / 感覺它已接近而抬眼還是那麼遠離：將地平線擬人化，發現是如此的遙不可及。

【問題26】 答案：C

- (A)是無「晴」卻有「晴」：諧音「雙關」。
- (B)以「舅奪母志」委婉道出母親改嫁。此為「婉曲」修辭。
- (C)東宮「借代」為太子。
- (D)夙昔，昨夜。泛指昔時，往日。

【問題27】 答案：D

- (A)生命力、生長發育的活力。 / 商業交易、買賣。
- (B)眇遠無盡的樣子。 / 眾多的樣子。
- (C)一呼一應，互通消息。 / 文章首尾互相照應。
- (D)飄蕩、搖晃。

【問題28】 答案：A

- (A)烏烏私情：相傳幼烏鴉長成後，會反哺年老無法覓食的老烏鴉，故以烏烏私情比喻奉養長輩的孝心。
- (B)作育菁莪：培養人才。為教育界常用的題辭。
- (C)鼓盆之戚：比喻喪妻之痛。
- (D)舐犢情深：比喻父母疼愛子女之深情。

【問題29】 答案：A

雲歸而巖穴暝：傍晚雲霧聚集時，山谷就會一片昏暗。

- (A)薄暮：傍晚。
- (B)平明：指天剛亮時。
- (C)亭午：正午、中午。
- (D)夜闌：夜將盡、夜深。

【問題30】 答案：D

- (A)周晬之齡：1歲。
- (B)期頤之壽：100歲。
- (C)強仕之年：40歲。

【問題31】 答案：D

- (A)夜大雪，眠「覺」，開室，命酌酒：ㄋㄩㄣˊ，睡醒。
- (B)我才不及卿，乃「覺」三十里：ㄋㄧ ㄠˋ，相差。
- (C)實迷途其未遠，「覺」今是而昨非：ㄋㄩㄣˊ，醒悟。

【問題32】 答案：D

- (A)刻骨銘心：感激在心，永難忘懷。
- (B)銘感五內：五內：五臟。比喻非常感激。
- (C)雲天高誼：形容情誼深重，直達雲天。
- (D)德業長昭：形容德澤功業永垂不朽。後多為男喪哀輓之辭。

【問題33】 答案：D

鴻儒：博學的人。鴻：大。儒：讀書有文化的人。白丁：原意指平民，沒有功名的人；這裏指沒有什麼學問的人。這兩句是互文。寫室中人，博學的鴻儒來來往往，談笑風生，沒有淺俗之人出現，說明陋室人不陋，室亦不陋。

【問題34】 答案：D

愛聽秋墳鬼唱詩：聊齋誌異為神鬼怪小說，多記載鬼怪狐仙之事。

【問題35】 答案：B

慎終：喪盡其哀，慎重的對待親人的喪事。
追遠：祭盡其誠，對故去親人的祭祀要誠懇。
民德歸厚：民風就能夠醇厚起來。

【問題36】 答案：D

五日京兆：京兆，即京兆尹，古時國都所在地的行政長官。比喻任職時間短或即將去職。

【問題37】 答案：C

- (A)大啟：對平輩。
- (B)安啟：對父母。
- (C)鈞啟：對長輩。
- (D)收啟：對晚輩。

【問題38】 答案：B

從「只為自己著想，而從不為他人著想」可知最讓人心寒的是「自私自利」。

【問題39】 答案：A

風行草偃：偃，倒伏。風一吹草就倒下。比喻在上位者以德化民。

【問題40】 答案：D

- (A)歃血為盟。
- (B)鼎鼎大名。
- (C)曲高和寡。

【問題41】 答案：C

春秋越國醜女東施模仿美女西施捧心皺眉，然卻更見其醜。比喻盲目胡亂地模仿他人，結果卻適得其反。

【問題42】 答案：C

父母完完整整地生了兒女，兒女也應完完整整的歸還天地，這才算是盡孝。不讓自己身體受損傷，不使自己外形有缺漏，這才算是完整。

【問題43】 答案：C

典出李斯〈諫逐客書〉。「讓」與「擇」皆有排拒之意。李斯此意為泰山之所以能有如此高度，正因為不拒絕任何微小的土壤，以致能夠堆砌成為如今的成就。江河之所以有如此深度，正因為不拒絕任何細微的溪流，以致匯流成為如今的規模。

【問題44】 答案：B

(B)湯餅：小孩出生三日之宴，今用以稱滿月的酒席。

【問題45】 答案：B

尊稱別人的父親為「令尊」，尊稱別人的母親為「令堂」。

【問題46】 答案：C

- (A)忙碌。
- (B)獲得。
- (D)「灌」輸。

【問題47】 答案：D

- (A)劉姥姥進大觀園：比喻人初次到某場所，對事事皆感到新奇，或用來取笑別人沒見過世面。
- (B)孔夫子拜師：不恥下問。
- (C)小和尚唸經：有口無心。

【問題48】 答案：D

- (A)手不釋卷：手中總是拿著書卷。比喻勤奮好學。
- (B)學富五車：形容人書讀很多，學問淵博。
- (C)開卷有益：打開書本閱讀，即能得好處。
- (D)虛應故事：指依照成例，敷衍了事。

【問題49】 答案：D

外表像金玉般華美，內裡卻盡是破棉絮。形容外表美好而內質破敗。

【問題50】 答案：B

飲食的時候可以沒有豬肉，但是居住的地方不可以沒有竹子。沒有豬肉只會讓人變瘦，沒有竹子則讓人變得俗氣。

外勤國文 模擬試題

- 元好問〈摸魚兒雁丘詞〉：「問世間，情是何物，直教人生死相許？」與李白〈長干行〉：「相迎不道遠，直至長風沙。」使用的「直」字，下列敘述何者正確？
(A)讀音、字義都相同
(B)讀音相同、字義不同
(C)讀音不同、字義相同
(D)讀音、字義都不相同
- 唐代作品《聶隱娘》，最近被改編拍攝成電影，「聶」字的讀音是：
(A)ㄋㄟˊ (B)ㄗㄛˊ (C)ㄋㄟˋ (D)ㄋㄛˋ
- 下列何者是評量文章結構方面的最恰當用語？
(A)立意精當 (B)長短適中 (C)措辭恰當 (D)段落分明
- 「映襯」是將兩種相反的人、事、物或觀念，對立並列，互相對照，以增強語氣。下列何者屬之？
(A)蓮子心中苦，梨兒腹內酸
(B)夕陽無限好，只是近黃昏
(C)家有敝帚，享之千金
(D)學生多四眼，勤讀成進士
- 李白〈春夜宴從弟桃花園序〉：「夫天地者，萬物之逆旅也。」「逆」之字義為：
(A)反方向 (B)預先 (C)違背 (D)迎接
- 丘遲〈與陳伯之書〉：「棄燕雀之小志，慕鴻鵠以高翔。」「小志」意指？
(A)幼年志向 (B)小人得志 (C)卑微志向 (D)心胸狹窄
- 下列成語：①吹毛求疵②陳陳相因③防微杜漸④如法炮製，哪些是形容做事態度保守？
(A)①② (B)②③④ (C)②④ (D)③④
- 下列對於成語的註解，何者正確？
(A)椿萱並茂比喻父母的恩情
(B)烏鳥私情比喻孝養父母的心意
(C)中饋猶虛指男子中年喪偶
(D)尺布斗粟比喻兄弟和睦
- 下列何者是先秦時代的作品？
(A)過秦論《賈誼》
(B)六國論《蘇洵》
(C)出師表《諸葛亮》
(D)燭之武退秦師《左傳》

- 10 蘇軾：「可使食無肉，不可居無竹。無肉令人瘦，無竹令人俗。人瘦尚可肥，俗士不可醫。」根據上文，可推知蘇軾認為「俗士」是指什麼？
(A)聲色名利 (B)風花雪月 (C)飽食終日 (D)遠離塵囂
- 11 《紅樓夢》「機關算盡太聰明，反誤了卿卿性命。生前心已碎，死後性空靈。」是描寫書中的哪一位人物？
(A)薛寶釵 (B)王熙鳳 (C)林黛玉 (D)賈寶玉
- 12 最早將群書分為經、史、子、集四部的是下列何者？
(A)隋書經籍志 (B)左傳 (C)四庫全書 (D)文獻通考
- 13 下列敘述何者最正確？
(A)「風、雅、頌」為詩的三種作法
(B)楚辭以四言為主，多短句疊字
(C)楚辭為珠江流域的詩歌，南方文學的代表
(D)詩經為黃河流域的歌謠，北方文學的代表
- 14 對聯的辭意要貼切，適應各類需要。下列何者最適合節慶？
(A)年高喜賞登高節/秋老還添不老春
(B)萱草春長不老/玉樹枝發更多
(C)瑤池春不老，壽域日方長
(D)春共山中採，香宜竹裡煎
- 15 鍾理和為臺灣鄉土文學作家，下列何者不是他的作品？
(A)草坡上 (B)臺北人 (C)笠山農場 (D)我的書齋
- 16 「唐宋八大家」是中國唐代與宋代八位大家的合稱，下列何者被讚稱為：「文起八代之衰，道濟天下之溺」？
(A)蘇軾 (B)柳宗元 (C)韓愈 (D)王安石
- 17 下列何者以「吾家藏書一萬卷，集錄三代以來金石遺文一千卷，有琴一張，有棋一局，常置酒一壺，以吾一老翁，老於此五物之間，是豈不為六一乎」之語，自稱「六一居士」？
(A)范仲淹 (B)歐陽脩 (C)宋祁 (D)陸游
- 18 下列何者為中國最早的白話章回小說？
(A)杜光庭《虬髯客傳》
(B)施耐庵《水滸傳》
(C)吳承恩《西遊記》
(D)羅貫中《三國演義》
- 19 《論語：先進》宗廟之事，如會同，端章甫，願為小相焉。其中「章甫」指的是下列何者？
(A)古代禮帽 (B)代表國家政權的神器 (C)古代的酒器 (D)古代用來盛祭品的禮器

- 20 他鼓動「如簧之舌」，終於說服客戶接受他的提案，其中「如簧之舌」之意為下列何者？
- (A)形容知識豐富，學問廣博
 - (B)形容人講話滔滔不絕
 - (C)形容人話語不多，沉默寡言
 - (D)形容人好逞口舌之快
- 21 下列何者為描寫春夏的景致？
- (A)得斯泉於山谷之間
 - (B)仰而望山，俯而聽泉
 - (C)風霜冰雪，刻露清秀
 - (D)掇幽芳而蔭喬木
- 22 蘇軾謫居黃州作《赤壁賦》「桂棹兮蘭槳，擊空明兮泝流光。渺渺兮予懷，望美人兮天一方」之文句，所要表達之意為下列何者？
- (A)泛舟赤壁的樂趣
 - (B)感嘆人生之短暫渺小
 - (C)內心釋懷之歡喜與曠達通脫之安適
 - (D)遠謫異鄉、遙念君國
- 23 「劉姥姥進大觀園」已經成為一句成語，用來形容下列何者情境？
- (A)平凡的人貢獻平凡的事物
 - (B)眼界狹小無法接受新事物
 - (C)沒見過世面的人開了眼界
 - (D)滄海桑田世事多變難預料
- 24 有關「新月詩派」的說明，下列何者有誤？
- (A)「新月」二字取自泰戈爾的詩集
 - (B)作品講究形式整齊和辭藻美麗
 - (C)徐志摩、卞之琳可說是新月代表詩人
 - (D)為擺脫舊詩的束縛，主張完全的自由，不受任何格律限制
- 25 徐志摩《再別康橋》一詩中，「那波光裡的豔影，在我的心頭蕩漾」文句表達的意思為下列何者？
- (A)往日的青春美夢終難追憶
 - (B)柳樹倒映在康河裏的情景，勾起眷戀的感情
 - (C)對離別在即感到感傷
 - (D)象徵自己對未來生活的規劃與期望

外勤國文 模擬試題詳解

【問題1】 答案：B

「問世間，情是何物，直教人生死相許？」：請問世間的各位！愛情究竟是什麼？竟會要令這大飛雁以生死相許來相對待？「直出」翻譯成「竟然」。

「相迎不道遠，直至長風沙。」：不問路途多遙遠，我要一直走到「長風沙」那兒迎接你歸來。「直出」翻譯成「一直」。

【問題2】 答案：A

聶(乃一世)隱娘：是一篇唐傳奇，敘述虛擬人物俠女聶隱娘因緣際會之下學成高超武藝，成為魏博節度使田季安的殺手，為田家刺殺陳許節度使劉昌裔，卻因感佩昌裔為人，而投效昌裔抵抗田季安的故事。文章玄奇神妙，武俠成份甚濃。

【問題3】 答案：D

(A)立意精當：指文章內容與題目相符。

(B)長短適中：指文章篇幅適當。

(C)措辭恰當：指文章表達準確。

(D)段落分明：指文章結構完整。

【問題4】 答案：C

(A)蓮子心中苦，梨兒腹內酸：以「蓮」雙關「憐」，以「梨」雙關「離」，表面上指水果，實際上敘父子之情，此為雙關。

(B)夕陽無限好，只是近黃昏：夕陽、黃昏除表現景色外，亦皆是作者用來象徵邁入老年（黃昏）缺懷才不遇（夕陽）的象徵，此為雙關。

(C)家有敝帚，享之千金：自家的破掃帚，卻視如千金之寶。比喻極為珍惜自己的事物。此為映襯。

(D)學生多四眼，勤讀成進士：四眼指配戴眼鏡，進士為近視的諧音，此為雙關。

【問題5】 答案：D

李白《春夜宴從弟桃花園序》：「夫天地者，萬物之逆旅也；光陰者，百代之過客也。而浮生若夢，為歡幾何。」

整個天地世間就是一個大旅店，我們不過是其中的匆匆過客，人在世間的得失、榮辱都只是一場夢幻而已，很快就過去了，沒有多少值得歡喜、留戀的。

逆旅在此作「旅店」之意，原意為「迎接旅人的處所」。

【問題6】 答案：C

棄燕雀之小志，慕鴻鵠以高翔：鄙棄燕雀俗小的胸襟，企慕鴻鵠高飛有遠大的志向。

【問題7】 答案：C

吹毛求疵：凡事挑剔，要求細節。

陳陳相因：因承襲舊例，而無革新進步。

防微杜漸：在錯誤或災害發生前，及時制止，以免繼續發展。

如法炮製：依照以往的狀況或案例操作。

【問題8】 答案：B

(A)椿萱並茂：比喻父母健在。

(C)中饋猶虛：指男子尚未娶妻。

(D)尺布斗粟：比喻兄弟間因利害衝突而不和。

【問題9】 答案：D

(A)過秦論《賈誼》：西漢。(B)六國論《蘇洵》：北宋。(C)出師表《諸葛亮》：三國時期。

(D)燭之武退秦師《左傳》：春秋戰國時期。

【問題10】 答案：A

蘇軾：「可使食無肉，不可居無竹。無肉令人瘦，無竹令人俗。人瘦尚可肥，俗士不可醫。」吃飯可以沒有肉，但居所不可沒有竹子。沒有肉不過是使人消瘦，沒有竹子就會令人庸俗。消瘦了還可以長胖，庸俗可是無藥可救。

【問題11】 答案：B

「機關算盡太聰明，反算了卿卿性命！」指王熙鳳因病而亡於榮府。王熙鳳以聰明漂亮，精明能幹聞名，亦以陰險狠毒，心狠手辣而著稱，在短暫的幾年掌權中，她爭強好勝，工於心機，極盡權術機變、殘忍陰毒之能事，陰險毒辣，貪財虛榮，製造了許多罪惡。

【問題12】 答案：A

「經史子集」的分類法始自《隋書經籍志》，四部之下的類目，歷代均有改變。直到清乾隆時期的《四庫全書》，將四部的內容正式確立。

【問題13】 答案：D

(A)「風、雅、頌」為詩的三種體裁，「賦、比、興」為詩的三種作法。

(B)詩經才是四言為主。楚辭是句子長短不一，五、六、七言句較多。

(C)楚辭為長江流域的詩歌，南方文學的代表。

【問題14】 答案：A

(A)年高喜賞登高節/秋老還添不老春：由登高節可知是重陽節。

(B)萱草春長不老/玉樹枝發更多：祝賀女壽。

(C)瑤池春不老，壽域日方長：祝賀女壽。

(D)春共山中採，香宜竹裡煎：描寫採茶、製茶的過程，用於茶館。

【問題15】 答案：B

(B)臺北人，1971年出版，是白先勇的作品。

【問題16】 答案：C

出自宋·蘇軾《潮州韓文公廟碑》。

原文：文起八代之衰，而道濟天下之溺；忠犯人主之怒，而勇奪三軍之帥。

釋義：（韓愈的）文章振興了八代以來的衰敗文風，（而他憂國憂民的）情懷使天下人從沉溺中振作起來；（韓愈的）忠誠曾觸怒了皇帝，而他的智勇卻勝過了三軍的統帥。

【問題17】 答案：B

歐陽修踏入仕途以來，一直支持變法自強，因此在政治上屢遭貶謫。當他被貶任滁州的時候，自號醉翁。「太守與客來飲於此，飲少輒醉，而年又最高，故自號曰醉翁也。醉翁之意不在酒，在乎山水之間也。山水之樂，得之心而寓之酒也。」在歐陽修告別官場，赴穎水之濱養老的時候，便自號為「六一居士」。

【問題18】 答案：B

《水滸傳》，施耐庵著，中國第一部章回小說，以農民起義為主題，用白話文作為寫作語言。敘述宋江等一百零八條好漢聚集山東梁山泊，後被政府招安的故事。

【問題19】 答案：A

章甫：一種古代的禮冠，以黑布製成。始於殷代，殷亡後存於宋國，為讀書人所戴的帽子。

【問題20】 答案：B

如簧之舌：形容人的舌頭像彈簧，講話滔滔不絕。

【問題21】 答案：D

掇幽芳而蔭喬木：春天摘些優雅的香花，夏天在大樹下乘涼。

【問題22】 答案：D

「桂棹兮蘭槳，擊空明兮泝流光。渺渺兮予懷，望美人兮天一方」：(手持)桂木製的棹及蘭木製的槳，擊打著澄澈因月亮照映而呈現光明的江水，與流動的月光一同航行。我的心中憂思盈懷，想望的美人在遙遠的天之一方。(美人在古代有借指君王之意)

【問題23】 答案：C

《紅樓夢》中的鄉村寡婦劉姥姥，進入賈府大觀園時，對事事物物無不感到新奇的經過情形。後比喻人初次到某場所，對事事皆感到新奇，或用來取笑別人沒見過世面。

【問題24】 答案：D

(D)新月詩派提倡現代詩歌格律化，強調對詩歌語言詞彙的運用，在詩歌創作中體現文學美的意境。

【問題25】 答案：B

〈再別康橋〉輕輕的我走了，正如我輕輕的來；我輕輕的招手，作別西天的雲彩。那河畔的金柳，是夕陽中的新娘；波光裡的豔影，在我的心頭盪漾。(描繪康河旁柳樹倒影，彷彿在向詩人招手，希望他不要離去)

101年外勤英文 試題

- 1 Stamp collecting is one of the world's most popular indoor _____.
(A) hazards (B) habits (C) hobbies (D) honors
- 2 A (An) _____ is a daughter of one's brother or sister.
(A) niece (B) cousin (C) nephew (D) aunt
- 3 An English proverb says that _____ is better than cure.
(A) preservation (B) prohibition (C) protection (D) prevention
- 4 To protect intellectual property rights, we should not buy _____ products.
(A) real (B) fake (C) bake (D) fade
- 5 Online shopping is easy and convenient but it can be _____ sometimes.
(A) reality (B) safety (C) risky (D) lucky
- 6 The heavy rain which _____ Taiwan in June caused huge damage.
(A) hit (B) hiked (C) approached (D) stepped
- 7 The postman _____ the mail every day.
(A) deserts (B) leaves (C) delivers (D) throws
- 8 There are many coconut trees on the _____ of the National Taiwan University.
(A) campus (B) camp (C) company (D) canal
- 9 To _____ mail delivery services, the post office urges mailers to use zip codes for all of their mail correspondence.
(A) improve (B) import (C) imply (D) impose
- 10 Many NBA teams are _____ in signing Jeremy Shu-How Lin.
(A) interesting (B) interest (C) interested (D) interests
- 11 Please _____ your hands if you want to join the baseball team.
(A) raise (B) rise (C) arise (D) rises
- 12 Everybody in my office was surprised _____ the bad news.
(A) at (B) in (C) on (D) for
- 13 If you _____ medicine this morning, you might _____ better.
(A) had taken / had felt
(B) took / felt
(C) have taken / have felt
(D) had taken / have felt
- 14 This bookshelf is _____ wood.
(A) making from (B) made of (C) making of (D) made from

15 How much does it _____ to mail this Insured Registered Letter from Taipei to New York?
(A) make (B) pay (C) cost (D) spend

16 Mary is never late for school, _____ she?
(A) is (B) isn't (C) does (D) doesn't

17 It is so cloudy. You had better _____ your umbrella with you.
(A) take (B) taking (C) to take (D) took

18 Reading good magazines _____ helpful to enrich your life.
(A) is (B) are (C) will (D) be

19 A: Have you watched the weather report today? B: No, I haven't. What's new?
A: _____
(A) The 2012 Summer Olympic Games will be held in London.
(B) There is a big storm coming.
(C) The police have arrested a group of gangsters.
(D) Several experts on UN affairs are visiting Taiwan.

20 A: _____
B: The post office is just around the corner.
(A) I have to mail this parcel immediately.
(B) Where can I buy some groceries?
(C) I need to confirm my flight in advance.
(D) I just received a registered letter.

21 A: _____
B: Every other day.
(A) How many times a week do you go swimming?
(B) Did you go to the gym yesterday?
(C) How often do you go to the gym?
(D) When was the last time you went swimming?

22 A: May I borrow your bike?
B: _____
(A) I have lent it to Jim.
(B) My bike was made in Taiwan.
(C) I don't want to borrow your bike.
(D) Your bike is so stylish.

23 A: I am leaving for Paris tomorrow.

B: _____

(A) Paris is the capital city of France.

(B) Have a safe trip.

(C) My brother lives in Paris.

(D) There are many famous museums in Paris.

24 A: The beauty of Sun Moon Lake is breathtaking. B: _____

(A) Sun Moon Lake is situated in Nantou County.

(B) Sun Moon Lake is the largest lake in Taiwan.

(C) You can say that again. I do love Sun Moon Lake.

(D) I have been to Sun Moon Lake many times.

25 A: _____

B: Sure. I will take care of it when you are away on vacation.

(A) Will you keep an eye on my dog?

(B) Do you like my dog?

(C) Are you fond of my dog?

(D) Are you afraid of my dog?

101年外勤英文 詳解

【問題1】 答案：C

集郵是世界上最流行的室內愛好之一。

(A) hazards 危險 (B) habits 習慣 (C) hobbies 愛好 (D) honors 榮譽

【問題2】 答案：A

姪女是一個人的兄弟(姊妹)的女兒。

(A) niece 姪女 (B) cousin 表(堂)兄弟 (C) nephew 侄子 (D) aunt 伯母

【問題3】 答案：D

英國有句諺語說，預防勝於治療。

(A) preservation 保存 (B) prohibition 禁止 (C) protection 保護 (D) prevention 預防

【問題4】 答案：B

為了保護智慧財產權，我們不應該去購買假的產品。

(A) real 真實的 (B) fake 假的 (C) bake 烘焙 (D) fade 褪色

【問題5】 答案：C

線上購物是簡單且方便的，但他有時候是有風險的。

(A) reality 真實的 (B) safety 安全的 (C) risky 風險的 (D) lucky 幸運的

【問題6】 答案：A

六月襲擊台灣的大雨造成了巨大的損失。

(A) hit 襲擊 (B) hiked 遠足 (C) approached 接近 (D) stepped 階梯式

【問題7】 答案：C

郵差每天遞送郵件。

(A) deserts 沙漠 (B) leaves 離開 (C) delivers 遞送 (D) throws 丟，拋

【問題8】 答案：A

國立台灣大學校園內有許多椰子樹。

(A) campus 校園 (B) camp 營地 (C) company 公司 (D) canal 運河

【問題9】 答案：A

為了改善郵政服務，郵局鼓勵寄件者在他們所有的郵件上使用郵政編碼。

(A) improve 改善 (B) import 進口 (C) imply 暗示 (D) impose 強加

【問題10】 答案：C

有許多NBA球隊對簽下林書豪有興趣。

be interested in 表達對做某事感興趣。

【問題11】 答案：A

如果你想加入棒球隊，請舉手。

(A) raise 舉起 (B) rise 上升 (C) arise 引起 (D) rises 上升

【問題12】 答案：A

在我辦公室的每一個人都很驚訝這個壞消息。

人+be surprised at+受詞

【問題13】 答案：D

如果你今天早上吃藥了，你可能會感覺好多了。

與「過去事實相反」的假設語氣：if+主詞+had+P.P....，主詞+would/should/could/might+have+P.P。

【問題14】 答案：B

這個書架是用木頭做的。

be made of是物理變化(外形沒改變)，be made from是化學變化(外形改變)。

【問題15】 答案：C

郵寄此被保險人的掛號信從台北到紐約的費用是多少？

It takes 人+時間 to V；It costs 人+金錢 to V；物 cost 人+金錢

【問題16】 答案：A

Mary上學從不遲到，是嗎？

這題是考附加問句的使用，never 屬於否定，所以附加問句必須使用肯定疑問。

【問題17】 答案：A

天空多雲。你最好隨身攜帶你的傘。

had better 屬於是助動詞的一種，所以助動詞+原形V。

【問題18】 答案：A

閱讀好的雜誌有助於豐富你的生活。

動名詞開頭的句子，動詞用單數。

【問題19】 答案：B

A：你看今天的天氣報告了嗎？B：不，我沒有。有什麼新鮮事嗎？

A：_____。

(A) 2012年的夏天將於倫敦舉辦奧林匹克比賽。

(B) 有一個大的暴風雨就要來了

(C) 警察逮捕了一票幫派份子。

(D) 許多聯合國的專家來台灣參訪。

【問題20】 答案：A

A: _____ B: 郵局就位於轉角處。

(A) 我得馬上郵寄這個包裹。

(B) 我在哪裡可以購買一些雜貨？

(C) 我需要預先確認我的班機。

(D) 我剛剛收到一封掛號信。

【問題21】 答案：C

A: _____ B: 每隔一天。

(A) 你一個禮拜去游泳多少次？

(B) 你昨天有去體育館嗎？

(C) 你多常去一次體育館？

(D) 你上次去游泳是何時呢？

【問題22】 答案：A

A: 我可以借你的自行車嗎？ B: _____

(A) 我已經借給Jim了。

(B) 我的自行車是在台灣製造。

(C) 我不想借給你自行車。

(D) 你的自行車是如此時尚。

【問題23】 答案：B

A: 我明天就要去巴黎。 B: _____

- (A) 巴黎是法國的首都。
- (B) 一路平安。
- (C) 我的哥哥住在巴黎。
- (D) 巴黎有許多著名的博物館。

【問題24】 答案：C

A: 日月潭之美令人嘆為觀止。 B: _____

- (A) 日月潭位於南投縣境內。
- (B) 日月湖是台灣最大的湖。
- (C) 我很贊同你的想法。我真的很喜歡日月潭。
- (D) 我去過日月潭很多次。

【問題25】 答案：A

A: _____ B: 當然。當你去度假時我會照顧他。

- (A) 你可以幫我多留意一下我的狗狗嗎？
- (B) 你喜歡我的狗嗎？
- (C) 你喜歡我的狗嗎？
- (D) 你很害怕我的狗嗎？

英文模擬試題(1)

- 1 All the chairs in the hall were _____, and at least 90 people had to stand.
(A) rebuilt (B) occupied (C) removed (D) packaged
- 2 I can see you are a little confused; let me _____ briefly.
(A) expose (B) explore (C) exchange (D) explain
- 3 I can't _____ on my work at the moment. The loud noise is distracting me.
(A) state (B) rotate (C) concentrate (D) dedicate
- 4 Famous artists often have excellent _____.
(A) imagination (B) estimation (C) relation (D) examination
- 5 Don't _____ like you know everything. In fact, you know nothing about it.
(A) act (B) take (C) make (D) adopt
- 6 Those twins look alike. It's very hard to _____ who is who.
(A) satisfy (B) modify (C) identify (D) qualify
- 7 The _____ is so nice today. We can go out for a picnic under the sunshine.
(A) father (B) feather (C) weather (D) flower
- 8 I think I've spent too long on the computer. My _____ is getting worse.
Sometimes the words become very blurry for me.
(A) revision (B) vision (C) session (D) mansion
- 9 It's better to put the medicines on the _____, or the children might swallow it accidentally.
(A) store (B) shelf (C) elf (D) note
- 10 Several websites allow users to _____ movies for free on the Internet. To gain access to the sites, you may have to register with the company and create a login and password.
(A) download (B) downstairs (C) downfall (D) downwind
- 11 Molly often _____ the post office's new iBox service to send packages anytime to 409 locations in Taiwan.
(A) use (B) uses (C) using (D) have used
- 12 I found my dog _____ asleep in the sun.
(A) laid (B) lain (C) lying (D) laying
- 13 I feel cold. Do you mind _____ I close the window?
(A) if (B) how (C) that (D) when
- 14 Would you like to go _____ with me this afternoon?
(A) swim (B) a swim (C) to swim (D) swimming

- 15 Responsibility, along with communication skills, _____ required for our candidates.
(A) are (B) be (C) is (D) is to

克漏字測驗

Business strategy is sometimes defined simply as a firm's high-level plan for reaching specific business objectives. Strategic plans succeed when they 16 business growth, a strong competitive position, and strong financial performance. When the high-level strategy fails, however, the firm must 17 change its approach or prepare to go out of business. Strategies reflect the firm's strengths, vulnerabilities, resources, and opportunities. And, they also reflect the firm's competitors and its market. Many different strategies and business models are possible, even for companies in the same industry selling 18 products or services. Southwest Airlines (in the US) and Ryan Air (in Europe), for instance, have strategies 19 providing low-cost transportation. The 20 for Singapore Airlines focuses instead on brand image for luxury and quality service. In competitive industries, each firm formulates a strategy it believes it can exploit.

- 16 (A) go by (B) lead to (C) compare with (D) work at
17 (A) either (B) neither (C) to (D) not
18 (A) alike (B) similar (C) opposite (D) unlike
19 (A) due to (B) according to (C) prevent from (D) based on
20 (A) reprove (B) approve (C) approach (D) reproach

克漏字測驗

Carrie joined a weight-loss center last summer. She took part in the program not so much for health 21 for good looks. Carrie secretly loved a pop star. She adored him so much that she had almost every album of his. Though she never revealed her secret to us, we were fully aware of her fascination with him. 22 he had a concert, she went to it. She was so obsessed with him that, as soon as she knew he liked slim girls, she enrolled in the weight-loss class, with the 23 of losing weight and winning his heart. To attain her goal, she was willing to pay whatever price she had to. She also started to eat less and exercise more, so she cut down on sweets, ice cream 24. As a result of her persistence and hard work, she made her dream come true. Today she is 25 she used to be. Nobody believes that she weighed 100 kilograms a year ago.

- 21 (A) as (B) but (C) so (D) than
22 (A) However (B) Whatever (C) Whenever (D) Whichever
23 (A) explanation (B) intention (C) impression (D) inclination
24 (A) in debt (B) in person (C) in itself (D) in particular

- 25 (A) half as heavy as
(B) half less heavy as
(C) less half as heavy as
(D) as half less heavy as

英文模擬試題詳解(1)

- 1 B 所有在大廳的椅子都被佔據了，至少有90個人必須站著。
(A) rebuild 重建 (B) occupy 佔住 (C) remove 移開 (D) package 打包

- 2 D 我看得出來你有點困惑，讓我簡短的說明。
(A) expose 接觸 (B) explore 探測 (C) exchange 交換 (D) explain 解釋/說明
confuse 困惑、briefly 簡短地

- 3 C 此時我無法全神貫注在我的工作上。巨大的噪音使我分心。
(A) state 陳述 (B) rotate 旋轉 (C) concentrate 全神貫注 (D) dedicate 奉獻
distract 使分心

- 4 A 著名的藝術家通常有卓越的想像力。
(A) imagination 想像力 (B) estimation 估計 (C) relation 關係
(D) examination 檢查

- 5 A 不要裝的你每件事情都知道。事實上，你根本一無所知。
(A) act 扮演 (B) take 拿、取 (C) make 製造 (D) adopt 採取

- 6 C 那些雙胞胎看起來很像。很難區分辨誰是誰。
(A) satisfy 滿意 (B) modify 修改 (C) identify 識別 (D) qualify 取得資格

- 7 C 今天的天氣真好。我們可以外出到陽光下野餐。
(A) father 父親 (B) feather 羽毛 (C) weather 天氣 (D) flower 花

- 8 B 我想我已經花太長時間看電腦了。我的視力正在惡化。有時候我看字變得非常模糊。
(A) revision 修訂 (B) vision 視力 (C) session 集會 (D) mansion 大廈
blurry 模糊的

- 9 B 最好把藥品放在架子上，否則小孩可能會意外吞食。
(A) store 商店 (B) shelf 架子 (C) elf 精靈 (D) note 筆記
swallow 吞嚥

- 10 A 數個網站允許使用者在網路上免費下載電影。為了獲得這些網站的使用權，你可能得在這間公司註冊並創建一組帳號密碼。
(A) download 下載 (B) downstairs 下樓 (C) downfall 落下
(D) downwind 順風
register 登記、註冊

Molly 通常使用郵局新的 iBox服務，能隨時向台灣409個據點寄送包裹。

- 11 B 由 often 可知是常態性行為，主詞為第三人稱單數，動詞宜使用現在簡單式 uses。

- 12 C 我發現我的狗狗躺在陽光下睡著了。
狗狗是主動躺在陽光下，故選現在分詞 lying。

- 13 A 我覺得冷。你介意我關窗嗎？
「Do you mind if I+V」為「你是否介意我做某事」的句型

- 14 D 你今天下午要跟我去游泳嗎？
「go + Ving」表示「去做某事」

- 責任感以及溝通技巧是我們對候選人的要求
主詞為 Responsibility(後面的插入句不影響)是第三人稱單數，動詞使用簡單現在式 is。
Responsibility 責任感、candidate 候選人

企業策略有時候簡單定義為一間公司為了達到特定的企業目的所制定的高階計畫。當他們引領企業成長、強勢的競爭地位和優秀的財務表現時，策略就成功了。然而，當高階策略失敗時，公司必須尋求改變方法或準備停業二選一。策略反映了公司的優勢、弱點、資源和機會。也反映了公司的競爭者和其市場。許多不同的策略和企業模式都是可能的，甚至對在相同產業販售類似產品或服務的公司而言也是一樣。例如美國的西南航空和歐洲的瑞安航空，具有基於提供低價運輸的策略。而新加坡航空的方法卻是聚焦在奢華與高品質服務的品牌形象。在競爭激烈的行業中，每家公司都制定了一種他們所認為可用的策略。

- 16 B (A) go by 經過 (B) lead to 引領 (C) compare with 比較 (D) work at 從事

- 17 A either...or... 兩者中任一個

- 18 B (A) alike 相同的(通常在句尾) (B) similar 類似的 (C) opposite 相反的
(D) unlike 不同的

- 19 D (A) due to 由於 (B) according to 根據 (C) prevent from 阻止
(D) based on 基於

- 20 C (A) reprove 責備 (B) approve 同意 (C) approach 方法 (D) reproach 責備

Carrie 去年夏天參加了一間減重中心。她參與的方案對健康的重視程度不如練出苗條的體態。Carrie 偷偷愛著一位流行明星。她是如此崇拜他，以至於她幾乎擁有每一張他的唱片。雖然她從來沒有把她的秘密告訴我們，我們卻完全能看得出她對他的迷戀。無論他什麼時候舉辦演唱會，他都會去。她對他如此著迷，一得知他喜歡苗條的女孩子，他就報名了減重班，企圖以減重贏得他的心。為了達到目標，他願意付出一切代價。她也開始少吃多動，並特別戒掉了甜點、冰淇淋。她堅持和努力的結果，終於達成了夢想。現在她是以前的一半重。沒有人相信一年前她有一百公斤重。

21 A 「not so much A as B」與其說是...還不如說是...

22 C (A) However 然而 (B) Whatever 任何...的東西 (C) Whenever 無論什麼時候
(D) Whichever 無論哪個

23 B (A) explanation 說明 (B) intention 企圖 (C) impression 印象
(D) inclination 傾向

24 D (A) in debt 負債 (B) in person 親身 (C) in itself 以本身而言
(D) in particular 特別地、尤其是

25 A 此句要表達比以前少一半重，可用 half as heavy as，或是 less heavy than half of the weight。

英文模擬試題(2)

- 1 Lisa wants to _____ all her friends to her 18th birthday party for a big celebration.
(A) hire (B) cancel (C) report (D) invite
- 2 These used plastic boxes cannot be thrown out as garbage. You must _____ them.
(A) hurry (B) decide (C) recycle (D) protect
- 3 My parents always support me and _____ me to chase my dream and become what I want to be.
(A) increase (B) encourage (C) oppose (D) reduce
- 4 The clock on the wall has stopped. You probably need to change its _____.
(A) alarm (B) location (C) battery (D) appearance
- 5 Poor Mr. Smith became the latest _____ of a swindle group, and all his money was gone.
(A) victim (B) excuse (C) mentor (D) criminal
- 6 As a professional _____, he has played many sports games and won a lot of medals.
(A) representative (B) diplomat (C) athlete (D) scout
- 7 A _____ crowd came into the room and disrupted our quiet dinner.
(A) reserved (B) stylish (C) distant (D) noisy
- 8 The man _____ to have a Master's degree, but the truth is he did not even finish high school.
(A) indulged (B) rearranged (C) dislocated (D) claimed
- 9 As usual, the _____ writer has published more than ten books this year.
(A) aloof (B) conservative (C) prolific (D) disinterested
- 10 Two years ago today we _____ on our journey around the globe with high hopes.
(A) embarked (B) resigned (C) combated (D) tapped
- 11 Nowadays a lot of young people _____ TV programs via cellphones.
(A) attach (B) receive (C) afford (D) relieve
- 12 It is considered the basis of decent etiquette to _____ eye contact when speaking to others.
(A) deliver (B) maintain (C) remain (D) promote

13 While people shop in Toronto, it is generally not a custom to _____ for a lower price.

(A) bargain (B) purchase (C) cheat (D) trade

14 The teacher _____ the students of bringing their own lunch for the next day's field trip.

(A) recalled (B) reminded (C) reviewed (D) returned

15 Amy _____ the scholarship because of her outstanding academic performance over the years.

(A) awards (B) awarded (C) was awarded (D) is to award

克漏字測驗

Christmas is full of old traditions, like having a turkey feast. But how did this begin? First turkeys 16 into Britain in 1526. 17 this time, people used to eat geese and even peacocks for Christmas meals. Henry VIII, King of England, was the first person to eat turkey on Christmas, but it wasn't until the 1950s that the turkey became a 18 popular choice than the goose. Cows and chickens were not eaten for Christmas because people needed milk and eggs. People would have turkey as it was something different and they could also 19 their cows and chickens. The good thing about this tradition is that turkeys are big 20 to feed the whole family. Today, 87% of people believe that Christmas would not be the same without a traditional roast turkey.

16 (A) are brought (B) were brought (C) brought (D) were bringing

17 (A) Before (B) After (C) When (D) While

18 (A) better (B) more (C) less (D) least

19 (A) bake (B) take (C) leave (D) save

20 (A) too (B) least (C) enough (D) as

閱讀測驗

Lagom is a new lifestyle that comes out of Sweden into our homes and our lives in the hope of helping us become healthy and live a sustainable life. The Swedish word is defined as “not too much, and not too little—just right.” This **ethos** of moderation has a great impact on Swedish people, who believe there should be a balance in everything they do, from working hours to how many slices of cake they eat, from how much sugar to take in one coffee to the portion sizes of dinner. Now people all over the world are interested in this living philosophy. Over the past six months, the BBC reports that search engine Google has seen a steady increase in the number of searches for the term Lagom and in the last three months, the word has been tweeted over 13,500 times.

My Swedish friend told me “asking a Swede about lagom is like **asking a fish what water is**. It’s part of our way of life. There’s an inner voice saying, ‘Don’t be too talkative, but don’t be too quiet or shy. Don’t build the biggest house in town and buy luxurious stuff, but don’t be poor.’”

Lagom has inspired several companies to manufacture skin collections, clothing, and furniture based on this notion of making life easier, more enjoyable and inexpensive. Swedish furniture store IKEA, for example, has created a project called “Live Lagom” to teach people how to reduce waste, save water, and live a healthier life. The famous H&M also sells Lagom around the world. Everybody can afford to buy their products, which are functional, stylish, and nice, but not too nice. Sam and Elliott Stocks, from England, published the lifestyle magazine Lagom. “Although neither of us are Swedes, we admire Swedish culture,” says Elliott. “The philosophy of Lagom is beautifully simple; it encourages everything in moderation.

- 21 What is the best title for this passage ?
- (A) An Urgent Global Issue.
 - (B) A Beautiful Life Journey.
 - (C) A New Trend to Keep Up With.
 - (D) An Ancient Culture to Be Preserved.

22 According to the passage, which is NOT one of the features of H&M's clothing ?

- (A) Affordable.
- (B) Expensive.
- (C) Fashionable.
- (D) Functional.

23 Which word is closest in meaning to the word “**ethos**” in the first paragraph ?

- (A) Process.
- (B) Spirit.
- (C) Failure.
- (D) Memory.

24 What does “**asking a fish what water is**” in the second paragraph imply ?

- (A) Swedes cannot live without lagom.
- (B) Lagom has a negative influence on Swedes.
- (C) A large part of Sweden is surrounded by the sea.
- (D) Swedes don't spend money on unnecessary things.

25 Which of the following statements is true about Lagom ?

- (A) It was created by the furniture store IKEA.
- (B) The word has not appeared on tweets until the last three months.
- (C) It encourages people to pursue both simplicity and quality.
- (D) It means that everyone should enjoy life without concern for the future.

英文模擬試題詳解(2)

Lisa 想要邀請她所有朋友慶祝她18歲的生日派對。

- 1 D (A) hire 僱用 (B) cancel 取消 (C) report 報告 (D) invite 邀請
celebration 慶祝

這些使用過的塑膠盒不能丟到垃圾桶。你必須回收它們。

- 2 C (A) hurry 趕快 (B) decide 決定 (C) recycle 回收 (D) protect 保護
plastic 塑膠的

我的父母總是支持我並鼓勵我追逐自己的夢想，成為我想成為的人。

- 3 B (A) increase 增加 (B) encourage 鼓勵 (C) oppose 反對 (D) reduce 減少
support 支持

牆上的鐘已經停了。你可能需要更換電池。

- 4 C (A) alarm 警報 (B) location 地點 (C) battery 電池 (D) appearance 外表

貧窮的 Smith 先生變成詐騙集團的最新受害者，他的錢都沒了。

- 5 A (A) victim 受害者 (B) excuse 藉口 (C) mentor 導師 (D) criminal 罪犯
swindle 詐騙

身為一位專業運動員，他參加過許多體育比賽並贏得許多獎牌。

- 6 C (A) representative 代表 (B) diplomat 外交官 (C) athlete 運動員
(D) scout 偵查者
medal 獎章

嘈雜的人群進入房間並打擾了我們安靜的晚餐。

- 7 D (A) reserved 保留 (B) stylish 時尚的 (C) distant 遠的 (D) noisy 吵的
crowd 人群、disrupt 干擾

這位男子聲稱他擁有碩士學位，他事實上他甚至沒有讀完高中。

- 8 D (A) indulge 放縱 (B) rearrange 重新安排 (C) dislocate 錯位 (D) claim 聲稱

如往常一樣，這位多產的作家今年出版超過十本書。

- 9 C (A) aloof 冷漠的 (B) conservative 保守的 (C) prolific 多產的
(D) disinterested 客觀的、公正無私的

兩年前的今天我們滿懷希望開始了我們的環球之旅。

- 10 A (A) embark 登船 (B) resign 辭職 (C) combate 戰鬥 (D) tap 輕拍
journey 旅行

現今，許多的年輕人藉由手機收看電視節目。

- 11 B (A) attach 連結、附上 (B) receive 接收 (C) afford 負擔得起
(D) relieve 減輕、緩解
via 藉由

與他人說話時看著對方被認為是一種基本的禮儀。

- 12 B (A) deliver 投遞、傳送 (B) maintain 維持、保持 (C) remain 剩下
(D) promote 晉升、促進
decent 合乎禮儀的、etiquette 禮儀

當人們在多倫多購物時，通常不習慣為了較低的價格討價還價。

- 13 A (A) bargain 討價還價 (B) purchase 購買 (C) cheat 欺騙
(D) trade 貿易
custom 慣例

老師提醒學生帶上自己的午餐做第二天的實地考察。

- 14 B (A) recalled 回想 (B) reminded 提醒 (C) reviewed 再檢查
(D) returned 返回
remind sb of sth ph. 使某人想起某事、提醒某人某事

Amy 被頒發獎學金因為這些年來傑出的學術表現。

- 15 C 此句在考文法的被動式 (beV + Vpp)由於學生是被頒發/授與獎學金，而不是主動頒發他人，所以需有被動式結構beV + Vpp才能表達正確語意。
scholarship 獎學金、outstanding 出色的、academic 學術的

聖誕節有許多古老的傳統，像是享用火雞大餐，但是在聖誕節享用火雞是何時開始的呢？火雞最早在1526年被帶入英國，在1526年之前，英國人習慣吃鵝或孔雀當作他們的聖誕大餐。雖然英國的國王亨利八世是第一位在聖誕節吃火雞的人，但直到1950年代火雞才真正取代鵝變成更受歡迎的聖誕大餐選擇。人們在聖誕節並不會吃牛肉與雞肉，因為他們需要牛奶與雞蛋。人們在聖誕節吃火雞還有一個原因，是因為他很不一樣，而且也可以省下很多牛肉與雞肉，這個傳統還有一個好處就是火雞大到足以供應全家人的一餐。在現今，87%的人認為聖誕節沒有烤火雞就不像是聖誕節了。

- 16 B 主詞turkeys為複數，故後面的動詞必須選複數動詞，且整段話都在陳述1526年發生的事，因此時態要用過去式，bring的過去式為brought，最後火雞不會主動帶入一定是被人們帶入，所以要使用被動式，故選(B)were brought。

- 17 A (A) Before 在...之前 (B) After 在...之後 (C) When 當 (D) While當

- 18 B 由後面的「than」得知考的是比較級，故選「more」。

19 D (A) bake 烘焙 (B) take 拿(東西) (C) leave 離開 (D) save 拯救

20 C enough to 足以

Lagom是一種新的生活方式，來自瑞典，進入我們的家庭和我們的生活，希望幫助我們變得健康且可長期持續的生活。瑞典語的定義是“不是太多，也不是太少—恰到好處。”這種溫和的精神對瑞典人有很大的影響，瑞典人認為他們所做的每件事都應該保持平衡，從工作時間到他們吃的一塊蛋糕及從一杯咖啡加入多少糖到晚餐的份量都要。現在全世界的人都對這種生活哲學感興趣。在過去六個月中，英國廣播公司報導稱搜尋引擎谷歌已經看到Lagom一詞的搜索量穩步增加，而在過去的三個月中，這個詞的推文已超過13,500次。

我的瑞典朋友告訴了我：詢問瑞典人關於lagom就像問魚什麼是水。它是我們的生活方式的一部分。有一種內在聲音說法是：不要太健談的但也不要太安靜或害羞。不要修建最大的房子在鎮裡並且不要買豪華材料，但也不要太窮酸。

Lagom啟發幾家公司製造皮膚收集、衣物和家具基於讓生活過的更輕鬆、愉快及不昂貴。以瑞典的家具店IKEA為例，它們創立一個項目稱作「活Lagom的」教人們如何減少廢棄物，省水和過更加健康的生活。著名的H&M也在全世界販賣Lagom。大家都有能力負擔購買他們家的產品，通常都是有功能性的、時髦的且還不錯但不是最好的。山姆和Elliott股票，來自英國，出版了生活方式雜誌Lagom。「雖然我們不是瑞典人，但我們敬佩瑞典的文化」，Elliott說。「Lagom哲學是美妙且簡單的；它鼓勵一切在適度(剛剛好)」。

什麼是這篇文章最好的主題？

- (A)一個緊急的全球問題
- 21 C (B)美好的人生旅途
- (C)跟上時代新趨勢
- (D)一種古老文化保存

根據這篇文章，這不是H&M服裝的特點之一？

- 22 B (A) Affordable. 可負擔的 (B) Expensive. 昂貴的 (C) Fashionable. 時尚的
- (D) Functional. 多功能的
- 23 B (A) Process 過程 (B) Spirit 精神，心靈 (C) Failure 失敗 (D) Memory 記憶

第二段中的“問魚：什麼是水？”是意味著什麼意思？

- 24 A (A) 瑞典人生活中不能沒有「Lagom」。
(B) 「Lagom」對瑞典人有負面影響。
(C) 瑞典的大部分地區被大海包圍著。
(D) 瑞典人不會把錢花在不必要的事情上。

以下哪項陳述對「Lagom」是正確的？

- 25 C (A) 是由宜家家具店所創造的。
(B) 這個詞直到過去三個月才出現在推特上的資訊。
(C) 它鼓勵人們追求簡單和品質。
(D) 這意味著每個人都應該享受生活而不關心未來。

105年郵政法大意及交通安全常識 試題

- 1 下列何者非屬郵政法之立法目的？
(A)增進公共利益
(B)提供普遍、公平、合理之郵政服務
(C)健全郵政發展
(D)促進產業創新
- 2 下列何者為郵政法所定之主管機關？
(A)財政部 (B)經濟部 (C)交通部 (D)金融監督管理委員會
- 3 有關中華郵政股份有限公司之組織型態,下列何者正確？
(A)屬政府機關 (B)財政部設立之公司 (C)屬國營公司 (D)屬民營企業
- 4 下列何者屬郵政法所稱「郵政公用物」？
(A)中華郵政公司發售之「郵政認知證」
(B)郵局裝填自動櫃員機所使用之鈔票
(C)郵政博物館之館藏珍郵
(D)臺北郵件處理中心之建築物
- 5 下列何者非屬中華郵政公司得經營之業務？
(A)承保車輛之保險
(B)簡易人壽保險
(C)集郵及其相關商品
(D)以智慧型物流箱(i郵箱)遞送郵件
- 6 依郵政法規定,運送業者除附送與貨物有關之通知外,不得遞送:
(A)明信片 (B)與貨物有關之廣告傳單 (C)與貨物有關之雜誌 (D)印刷物
- 7 依郵政法規定,中華郵政公司免納稅捐之範圍,不包括下列何者？
(A)經營遞送郵件業務
(B)供遞送郵件業務使用之郵政土地
(C)供遞送郵件業務使用之業務單據
(D)中華郵政公司將其所有之建物頂樓,出租供電信業者使用
- 8 依郵政法規定,郵件經郵局收寄後,有事實足認內裝之物為郵政禁寄物品時,中華郵政公司之處置方式,下列何者錯誤？
(A)經寄件人或收件人同意後,得開拆查驗
(B)須經寄件人及收件人均同意後,方得開拆查驗
(C)開拆查驗後如確屬禁寄物品,得拒絕遞送
(D)開拆查驗後,應予驗訖之證明

- 9 某國小學生大明今年7歲,自行於郵局交寄小包掛號一件,依郵政法規定,其行為之法律效力為何?
(A)須經大明父母親之同意始生效力
(B)無效
(C)應視為有行為能力而有效
(D)是否生效,應由大明之父母親認定之
- 10 國際郵政公約或協定關於郵件或其事務之規定,如與郵政法之規定牴觸,應適用何種規定?
(A)一律適用國際郵政公約或協定
(B)優先適用民法
(C)除國際郵件事務外,應適用郵政法之規定
(D)適用消費者保護法
- 11 依郵政法規定,有關郵件之資費,下列敘述何者錯誤?
(A)郵簡(舊法:具有通信性質文件)之資費,由交通部核定
(B)信函之資費,由中華郵政公司擬訂
(C)各類郵件之資費均應由交通部核定
(D)明信片之資費,由交通部核定
- 12 【已刪除】甲公司擅自印製及發行與郵票類似,且作為交付郵資證明之票證,下列敘述何者正確?
(A)該票證可供買受人作為交寄郵件使用
(B)中華郵政公司及交通部均有權對甲公司裁處罰金
(C)甲公司並未違反郵政法
(D)交通部得對甲公司裁處罰鍰新臺幣十萬元
(E)已刪除
- 13 依郵政法規定,有關中華民國現任總統、副總統之就職紀念郵票,下列敘述何者錯誤?
(A)該郵票由中華郵政公司發行
(B)屬具有交付郵資證明之票證
(C)郵票圖案係由行政院核定
(D)郵票圖案係由交通部擬訂
- 14 有關含有郵票符誌之明信片,下列何者非由行政院核定?
(A)印製之廠商 (B)式樣 (C)圖案 (D)價格
- 15 依郵政法規定,有關郵票之廢止,下列敘述何者正確?
(A)中華郵政公司應於廢止郵票三個月前公告
(B)自廢止之日起九個月內,得向中華郵政公司換取新票
(C)自廢止之日起六個月內,得向中華郵政公司換取相等面額之現金
(D)須經交通部核定

- 16 依郵政法規定,中華郵政公司得拒絕接受及遞送下列何種郵件?
(A)寄往偏遠地區村落之郵件
(B)寄往深山地區之郵件
(C)寄往國外之郵件
(D)郵件規格不符中華郵政公司公告者
- 17 依郵政法規定,中華郵政公司為確認下列何者之真偽,得請其出示必要之證明?
(A)寄件人
(B)郵件收件地址所設之管理服務人員
(C)違反郵政法之場所其負責人
(D)收件人
- 18 依郵政法規定,郵件遞交收件人時,不得以毀損論之認定標準,不包括下列何者?
(A)封面無破裂痕跡
(B)重量未減少
(C)重量雖減少,其原因由於該物件之性質
(D)郵件準時送達
- 19 依郵政法規定,寄件人或收件人於下列何種期間,曾向中華郵政公司查詢郵件者,以已經請求補償論?
(A)自郵件交寄之日起三個月內
(B)自郵件交寄之日起六個月內
(C)自郵件交寄之日起一年內
(D)自郵件交寄之日起五年內
- 20 違反郵政法第六條第二項規定,遞送與貨物有關通知以外之郵件者,其罰則為何?
(A)處新臺幣二萬元以上十萬元以下罰鍰
(B)處新臺幣二十萬元以上一百萬元以下罰鍰
(C)處新臺幣十萬元以上一百萬元以下罰鍰
(D)處一年以下有期徒刑,得併科新臺幣五十萬元以下罰金
- 21 依道路交通安全規則規定,汽車非經公路監理機關核准,不得擅自附掛拖車行駛。但故障車輛應以救濟車或適當車輛牽引,牽引裝置應牢固,兩車前後相隔距離不得超過幾公尺?
(A)五公尺 (B)六公尺 (C)七公尺 (D)八公尺
- 22 依道路交通安全規則規定,有關機車附載人員或物品之敘述,下列何者錯誤?
(A)載物者,小型輕型不得超過二十公斤,普通輕型不得超過五十公斤
(B)載物者,重型不得超過八十公斤,高度不得超過駕駛人肩部,寬度不得超過把手外緣十公分
(C)小型輕型機車不得附載人員,重型及普通輕型機車在駕駛人後設有固定座位者,得附載兩人
(D)駕駛人及附載坐人均應戴安全帽

- 23 依道路交通安全規則規定,有關行車遇有轉向、減速暫停、讓車、倒車、變換車道等情況時所用之燈光及駕駛人之手勢規定,下列敘述何者錯誤?
- (A)左轉彎時,應先顯示車輛前後之左邊方向燈光,或由駕駛人表示左臂平伸,手掌向下之手勢
 - (B)右轉彎時,應先顯示車輛前後之右邊方向燈光,或由駕駛人表示左臂向下,手掌向右微曲之手勢
 - (C)允讓後車超越時,應顯示右邊方向燈光,或由駕駛人表示左臂向下四五度垂伸,手掌向前並前後擺動之手勢
 - (D)倒車時,應顯示倒車燈光,或由駕駛人表示左臂平伸,手掌向後並前後擺動之手勢
- 24 依道路交通安全規則規定,有關汽車在未劃設慢車道之雙向二車道行駛時之敘述,下列何者錯誤?
- (A)均應在遵行車道內行駛
 - (B)在劃有分向限制線之路段,得駛入來車之車道內
 - (C)在劃有行車分向線之路段,超車時得駛越,但不能並行競駛
 - (D)除準備停車或臨時停車外,不得駛出路面邊線
- 25 依道路交通安全規則規定,機車行駛之車道,應依標誌或標線之規定行駛;無標誌或標線者,其應遵守之規定,下列敘述何者錯誤?
- (A)在未劃分快慢車道之道路,應在最外側二車道行駛;單行道應在最左、右側車道行駛
 - (B)變換車道時,應讓直行車先行,並注意安全距離
 - (C)得視情況在人行道行駛
 - (D)除起駛、準備停車或臨時停車外,不得駛出路面邊線
- 26 依道路交通安全規則規定,汽車行駛中,駕駛人看到鐵路平交道標誌或標線後,應即將速度減低至時速幾公里以下?
- (A)十五公里以下 (B)二十公里以下 (C)三十公里以下 (D)四十五公里以下
- 27 依道路交通安全規則規定,貨車之裝載物必須在底板分配平均,不得前伸超過車頭以外,體積或長度非框式車廂所能容納者,伸後長度最多不得超過車輛全長之多少比例?
- (A)百分之三十 (B)百分之四十 (C)百分之五十 (D)百分之六十
- 28 依道路交通安全規則規定,貨車裝載貨物高度自地面算起,小型車不得超過多少公尺?
- (A)2.65公尺 (B)2.75公尺 (C)2.85公尺 (D)2.95公尺
- 29 依道路交通安全規則規定,貨車必須附載隨車作業人員者,除駕駛人外,有附載人員人數上限之限制,請問一般大貨車不得超過幾人?
- (A)二人 (B)三人 (C)四人 (D)五人
- 30 依道路交通安全規則規定,貨車必須附載隨車作業人員者,除駕駛人外,有附載人員人數上限之限制,請問工程或公用事業機構人員,佩帶有服務單位之證章或其他明顯識別之標記者,搭乘小貨車不得超過幾人?
- (A)二人 (B)四人 (C)六人 (D)八人

- 31 依道路交通安全規則規定,機車附載物品時,其長度伸出車尾部分,自後輪軸起不得超過多少公分?
(A)30公分 (B)40公分 (C)50公分 (D)60公分
- 32 依道路交通安全規則規定,汽車在單行道行駛時,應在快車道上按遵行方向順序行駛,劃有路面邊線者,除下列哪些情形外,不得駛出路面邊線? A.起駛 B.超車 C.準備停車 D.臨時停車
(A)A、B、C (B)A、B、D (C)A、C、D (D)B、C、D
- 33 依道路交通安全規則規定,汽車交會時,會車相互之間隔不得少於多少距離?
(A)30公分 (B)40公分 (C)50公分 (D)60公分
- 34 依道路交通安全規則規定,汽車超車時,如欲超越同一車道之前車時,須先按鳴喇叭多少單響或變換燈光幾次,但不得連續密集按鳴喇叭或變換燈光迫使前車允讓?
(A)按鳴喇叭一單響或變換燈光二次
(B)按鳴喇叭二單響或變換燈光一次
(C)按鳴喇叭一單響或變換燈光一次
(D)按鳴喇叭二單響或變換燈光二次
- 35 依道路交通安全規則規定,汽車行駛至交岔路口,右轉彎時,應距交岔路口多少公尺前顯示方向燈或手勢,換入外側車道、右轉車道或慢車道,駛至路口後再行右轉?
(A)5公尺 (B)10公尺 (C)20公尺 (D)30公尺
- 36 對於違反道路交通管理處罰條例之行為者,民眾得敘明違規事實或檢具違規證據資料,向公路主管或警察機關檢舉,經查證屬實者,應即舉發。但行為終了日起,超過幾日之檢舉,不予舉發?
(A)3日 (B)4日 (C)5日 (D)7日
- 37 依道路交通管理處罰條例規定,汽車不依限期參加定期檢驗或臨時檢驗者,處汽車所有人新臺幣九百元以上一千八百元以下罰鍰;逾期一個月以上者並吊扣其牌照,至檢驗合格後發還,逾期多久以上者,註銷其牌照?
(A)三個月 (B)四個月 (C)五個月 (D)六個月
- 38 依道路交通管理處罰條例規定,汽車車身、引擎、底盤、電系等重要設備變更或調換,或因交通事故遭受重大損壞修復後,不申請公路主管機關施行臨時檢驗而行駛者,處汽車所有人新臺幣二千四百元以上九千六百元以下罰鍰,並責令其檢驗。汽車所有人在一年內違反前項規定二次以上者,並吊扣牌照多久?
(A)一個月 (B)二個月 (C)三個月 (D)四個月
- 39 依道路交通管理處罰條例規定,汽車駕駛人,將駕駛執照借供他人駕車或允許無駕駛執照之人,駕駛其車輛,吊扣其駕駛執照多久?
(A)一個月 (B)二個月 (C)三個月 (D)四個月
- 40 依道路交通管理處罰條例規定,汽車行駛於道路上,其駕駛人、前座或小型車後座乘客未依規定繫安全帶者,處駕駛人新臺幣多少罰鍰?
(A)一千五百元罰鍰 (B)二千五百元罰鍰 (C)三千五百元罰鍰 (D)五千元罰鍰

- 41 依道路交通管理處罰條例規定,汽車牌照吊扣期間仍繼續行駛,處汽車所有人多少金額之罰鍰,並禁止其行駛?
- (A)處新臺幣一千二百元以上一萬零八百元以下罰鍰
 - (B)處新臺幣二千四百元以上一萬零八百元以下罰鍰
 - (C)處新臺幣三千六百元以上一萬零八百元以下罰鍰
 - (D)處新臺幣四千八百元以上一萬零八百元以下罰鍰
- 42 依道路交通管理處罰條例規定,汽車行駛有牌照遺失或破損,不報請公路主管機關補發、換發或重新申請之情形者,處汽車所有人多少金額之罰鍰,並責令改正、補換牌照或禁止其行駛?
- (A)處新臺幣三百元以上六百元以下罰鍰
 - (B)處新臺幣九百元以上一千八百元以下罰鍰
 - (C)處新臺幣一千八百元以上三千六百元以下罰鍰
 - (D)處新臺幣三千元以上六千元以下罰鍰
- 43 依道路交通管理處罰條例規定,汽車駕駛人未領有駕駛執照駕駛小型車或機車者,處汽車駕駛人多少金額之罰鍰,並當場禁止其駕駛?
- (A)處新臺幣一千八百元以上三千六百元以下罰鍰
 - (B)處新臺幣二千四百元以上四千八百元以下罰鍰
 - (C)處新臺幣三千元以上六千元以下罰鍰
 - (D)處新臺幣六千元以上一萬二千元以下罰鍰
- 44 依道路交通管理處罰條例規定,汽車裝載貨物超過規定之長度、寬度、高度者,處汽車所有人多少金額之罰鍰,並責令改正或禁止通行?
- (A)處新臺幣一千八百元以上三千六百元以下罰鍰
 - (B)處新臺幣二千四百元以上四千八百元以下罰鍰
 - (C)處新臺幣三千元以上一萬八千元以下罰鍰
 - (D)處新臺幣六千元以上一萬二千元以下罰鍰
- 45 依道路交通管理處罰條例規定,汽車駕駛人於行駛道路時,以手持方式使用行動電話、電腦或其他相類功能裝置進行撥接、通話、數據通訊或其他有礙駕駛安全之行為者,處駕駛人多少金額之罰鍰?
- (A)處新臺幣一千元罰鍰
 - (B)處新臺幣二千元罰鍰
 - (C)處新臺幣三千元罰鍰
 - (D)處新臺幣六千元罰鍰
- 46 依道路交通事故處理辦法規定,發生道路交通事故,依法駕駛人或肇事人應先為之處置,下列敘述何者錯誤?
- (A)有受傷者,應迅予救護,並儘速通知消防機關
 - (B)發生火災者,應迅予撲救,防止災情擴大,並儘速通知消防機關
 - (C)通知警察機關。但無人受傷或死亡且當事人當場自行和解者,不在此限
 - (D)有人受傷且當事人同意移置車輛時,仍不得先標繪車輛位置及現場痕跡證據後,將車輛移置不妨礙交通之處所

- 47 依道路交通事故處理辦法規定,道路交通事故案件當事人或利害關係人,得於法定期間向警察機關申請閱覽或提供相關資料,下列敘述何者錯誤?
- (A)於事故七日後得申請閱覽或提供現場圖、現場照片
 - (B)於事故三十日後得申請提供道路交通事故初步分析研判表
 - (C)資料之閱覽應於警察機關之辦公處所為之,不得攜出或塗改增刪,警察機關得以複印或備份方式提供現場照片
 - (D)申請提供資料所需費用,由警察機關負擔
- 48 依道路交通事故處理辦法規定,有關「重大道路交通事故」之定義,下列敘述何者正確?
- A.死亡人數在二人以上 B.死亡及受傷人數在十人以上 C.受傷人數在十五人以上 D.運送之危險物品發生爆炸、燃燒或有毒液(氣)體、放射性物質洩漏等事故
- (A)A、B、C (B)A、B、D (C)A、C、D (D)B、C、D
- 49 依道路交通事故處理辦法規定,在最高速限50公里以下路段之車道或路肩發生道路交通事故時,駕駛人或肇事人應於事故地點後方多少適當距離處,豎立車輛故障標誌或其他明顯警告設施,事故現場排除後應即撤除?
- (A)60公尺 (B)30公尺 (C)20公尺 (D)10公尺
- 50 依道路交通事故處理辦法規定,警察機關獲知道路交通事故,如事故車輛機件及車上痕跡證據尚須檢驗、鑑定或查證者,警察機關得暫時扣留處理。請問其扣留期間不得超過幾個月?
- (A)一個月 (B)二個月 (C)三個月 (D)六個月

105年郵政法大意及交通安全常識 詳解

【問題1】 答案：D

郵政法立法目的：為健全郵政發展，提供普遍、公平、合理之郵政服務，增進公共利益，特制定本法；本法未規定者，依其他法律之規定。

【問題2】 答案：C

郵政法主管機關：交通部。

【問題3】 答案：C

交通部為提供郵政服務，設國營中華郵政股份有限公司（以下簡稱中華郵政公司）；除本法另有規定者外，其設置另以法律定之。

【問題4】 答案：D

郵政公用物：指專供中華郵政公司使用之建築物、土地、機具、設備、物品、車、船、航空器及其他相關運輸工具。

【問題5】 答案：A

中華郵政公司，得經營下列業務：

1. 遞送郵件。
2. 儲金。
3. 匯兌。
4. 簡易人壽保險。
5. 集郵及其相關商品。
6. 郵政資產之營運。
7. 經交通部核定，得接受委託辦理其他業務及投資或經營第1款至第6款相關業務。

【問題6】 答案：A

郵政不得私營原則

除中華郵政公司及受其委託者外，任何人不得以遞送下列文件為營業。但國內、外互寄之跨境文件，不在此限：

1. 明信片。
2. 郵簡。
3. 信函：
 - (1) 各級政府機關（構）、公立學校、公法人、公營事業機構或軍事單位所交寄。
 - (2) 前目以外之人所交寄，且單件重量500公克以下或單件資費不逾13倍基礎郵資。

運送業者，除附送與貨物有關之通知外，不得為前項文件之遞送。

函件收寄或投遞業者應於函件封面上標示其名稱、商標或其他足資識別之符號。但無收件人名址之函件，得免予標示。

【問題7】 答案：D

中華郵政公司經營之遞送郵件業務及供該項業務使用之郵政公用物、業務單據，免納一切稅捐。

【問題8】 答案：B

中華郵政公司或其服務人員，不得開拆他人之郵件。但有事實足認內裝之物為郵政禁寄物品、不適用優惠資費或違反郵政法規，經寄件人或收件人同意開拆者(其中一方同意即可)，不在此限。

【問題9】 答案：C

無行為能力人或限制行為能力人，關於郵政事務對中華郵政公司所為之行為，視為有行為能力人之行為。舉例：7歲幼童至郵局交寄信件，法律效力為完全有效。

【問題10】 答案：C

關於各類郵件或其事務，國際郵政公約或協定有規定者，依其規定。但其規定與本法抵觸者，除國際郵件事務外，適用本法之規定。(國內郵件優先適用我國郵政法)

【問題11】 答案：C

第6條第1項(明信片、郵簡、信函)限由中華郵政公司或受其委託者遞送文件之資費，由中華郵政公司擬訂，報請主管機關核定後實施。前項以外郵件之資費，由中華郵政公司自行訂定。

【問題12】 答案：#(因修法原答案已不適用)

除中華郵政公司外，任何人不得發行、製作與郵票類似，且具有交付郵資證明之票證。任何人違反發行與郵票類似且具有交付郵資證明之票證者，應處以行政罰。違反第15條規定(發行類似郵票票證)者，處新臺幣2萬元以上10萬元以下罰鍰，並得按次連續處罰。

【問題13】 答案：D

郵費之交付，以郵票或其他表示郵資已付符誌證明之。

郵票、含有郵票符誌之明信片或特製郵簡，由中華郵政公司擬訂式樣、圖案及價格，報請主管機關層轉行政院核定後發行。

【問題14】 答案：A

郵票、含有郵票符誌之明信片或特製郵簡，由中華郵政公司擬訂式樣、圖案及價格，報請主管機關層轉行政院核定後發行。

【問題15】 答案：D

中華郵政公司於報請主管機關(交通部)核定後，將其發行之郵票廢止之。但應於1個月前公告，並停止該郵票售賣。

持有廢止之郵票者，自廢止之日起6個月內，得向中華郵政公司換取新票。

【問題16】 答案：D

中華郵政公司非依法規，不得拒絕遞送第5條之1第2項各款之文件或物品(「國內」單件不逾2公斤之函件、單件不逾20公斤及長寬高合計不逾150公分之包裹、其他經主管機關指定之文件或物品)。但禁寄物品或郵件規格不符中華郵政公司公告者，不在此限。

【問題17】 答案：D

中華郵政公司為確認收件人之真偽，得請其出示必要之證明。

【問題18】 答案：D

郵件遞交收件人或退還寄件人時，如封面無破裂痕跡，重量亦未減少者，不得以毀損論。重量雖減少，其原因由於該物件之性質者，亦同。

【問題19】 答案：B

寄件人或收件人之補償請求權，自郵件交寄之日起，逾6個月不行使而消滅。

寄件人或收件人，如於前項期間內曾向中華郵政公司查詢該郵件者，以已經請求補償論。

【問題20】 答案：B

違反第6條規定者(以遞送郵政專營之文件為營業)，處新臺幣20萬元以上100萬元以下罰鍰，並通知其停止該等行為；未停止者，得按次處罰。

【問題21】 答案：A

汽車非經公路監理機關核准，不得擅自附掛拖車行駛。但故障車輛應以救濟車或適當車輛牽引，牽引裝置應牢固，兩車前後相隔距離不得超過五公尺，牽引車前端，故障車後端及牽引裝置應懸掛危險標識。

【問題22】 答案：C

(C)小型輕型機車不得附載人員，重型及普通輕型機車在駕駛人後設有固定座位者，得附載一人。

【問題23】 答案：B

(B)右轉彎時，應先顯示車輛前後之右邊方向燈光，或由駕駛人表示左臂向上，手掌向右微曲之手勢。

【問題24】 答案：B

(B)在劃有分向限制線之路段，不得駛入來車之車道內。

【問題25】 答案：C

(C)不得在人行道行駛。

【問題26】 答案：A

汽車行駛中，駕駛人看到鐵路平交道標誌或標線後，應即將速度減低至時速十五公里以下。

【問題27】 答案：A

裝載物必須在底板分配平均，不得前伸超過車頭以外，體積或長度非框式車廂所能容納者，伸後長度最多不得超過車輛全長百分之三十，並應在後端懸掛危險標識，日間用三角紅旗，夜間用紅燈或反光標識。廂式貨車裝載貨物不得超出車廂以外。

【問題28】 答案：C

裝載貨物高度自地面算起，大型車不得超過四公尺，小型車不得超過二點八五公尺。

【問題29】 答案：C

貨車必須附載隨車作業人員者，除駕駛人外，應依下列規定，並須隨時注意行車安全。其中大貨車不得超過四人，小貨車不得超過二人。

【問題30】 答案：D

貨車必須附載隨車作業人員者，除駕駛人外，應依下列規定，並須隨時注意行車安全。其中工程或公用事業機構人員，佩帶有服務單位之證章或其他明顯識別之標記者，搭乘大貨車不得超過二十人，小貨車不得超過八人。

【問題31】 答案：C

機車附載人員或物品，應依下列規定：載物者，小型輕型不得超過二十公斤，普通輕型不得超過五十公斤，重型不得超過八十公斤，高度不得超過駕駛人肩部，寬度不得超過把手外緣十公分，長度自座位後部起不得向前超伸，伸出車尾部分，自後輪軸起不得超過半公尺(50公分)；具封閉式貨箱之電動三輪重型機車不得超過二百公斤，裝載貨物不得超出貨箱以外。

【問題32】 答案：C

汽車在單行道行駛時，應在快車道上按遵行方向順序行駛，劃有路面邊線者，除起駛、準備停車或臨時停車外，不得駛出路面邊線。

【問題33】 答案：C

汽車交會時，會車相互之間隔不得少於半公尺(50公分)。

【問題34】 答案：B

汽車超車及讓車時，欲超越同一車道之前車時，須先按鳴喇叭二單響或變換燈光一次，但不得連續密集按鳴喇叭或變換燈光迫使前車允讓。

【問題35】 答案：D

汽車行駛至交岔路口，其行進、轉彎，應依下列規定：右轉彎時，應距交岔路口三十公尺前顯示方向燈或手勢，換入外側車道、右轉車道或慢車道，駛至路口後再行右轉。但由慢車道右轉彎時應於距交岔路口三十至六十公尺處，換入慢車道。

【問題36】 答案：D

對於違反本條例之行為者，民眾得敘明違規事實或檢具違規證據資料，向公路主管或警察機關檢舉，經查證屬實者，應即舉發。但行為終了日起逾七日之檢舉，不予舉發。

【問題37】 答案：D

汽車不依限期參加定期檢驗或臨時檢驗者，處汽車所有人新臺幣九百元以上一千八百元以下罰鍰；逾期一個月以上者並吊扣其牌照，至檢驗合格後發還，逾期六個月以上者，註銷其牌照。經檢驗不合格之汽車，於一個月內仍未修復並申請覆驗，或覆驗仍不合格者，吊扣其牌照。

【問題38】 答案：C

汽車車身、引擎、底盤、電系等重要設備變更或調換，或因交通事故遭受重大損壞修復後，不申請公路主管機關施行臨時檢驗而行駛者，處汽車所有人新臺幣二千四百元以上九千六百元以下罰鍰，並責令其檢驗。

汽車所有人在一年內違反前項規定二次以上者，並吊扣牌照三個月；三年內經吊扣牌照二次，再違反前項規定者，吊銷牌照。

【問題39】 答案：C

汽車駕駛人，有下列情形之一者，吊扣其駕駛執照三個月：

- 一. 將駕駛執照借供他人駕車。
- 二. 允許未領有駕駛執照、駕駛執照經吊銷、註銷或吊扣之人，駕駛其車輛。

【問題40】 答案：A

汽車行駛於道路上，其駕駛人、前座或小型車後座乘客未依規定繫安全帶者，處駕駛人新臺幣一千五百元罰鍰；營業大客車駕駛人未依規定繫安全帶者，處駕駛人新臺幣二千元罰鍰。但營業大客車、計程車或租賃車輛代僱駕駛人已盡告知義務，乘客仍未繫安全帶時，處罰該乘客。

【問題41】 答案：C

汽車有下列情形之一者，處汽車所有人新臺幣三千六百元以上一萬零八百元以下罰鍰，並禁止其行駛：

- 一. 未領用牌照行駛。
- 二. 拼裝車輛未經核准領用牌證行駛，或已領用牌證而變更原登檢規格、不依原規定用途行駛。
- 三. 使用偽造、變造或矇領之牌照。
- 四. 使用吊銷、註銷之牌照。
- 五. 牌照借供他車使用或使用他車牌照。
- 六. 牌照吊扣期間行駛。
- 七. 已領有號牌而未懸掛或不依指定位置懸掛。
- 八. 牌照業經繳銷、報停、吊銷、註銷，無牌照仍行駛。
- 九. 報廢登記之汽車仍行駛。
- 十. 號牌遺失不報請公路主管機關補發，經舉發後仍不辦理而行駛。

【問題42】 答案：A

汽車行駛有下列情形之一者，處汽車所有人新臺幣三百元以上六百元以下罰鍰，並責令改正、補換牌照或禁止其行駛：

- 一. 牌照遺失或破損，不報請公路主管機關補發、換發或重新申請。
- 二. 號牌污穢，不洗刷清楚或為他物遮蔽，非行車途中因遇雨、雪道路泥濘所致。

【問題43】 答案：#(法規已修訂)

汽車駕駛人有未領有駕駛執照駕駛小型車或機車之情形者，處新臺幣六千元以上二萬四千元以下罰鍰，並當場禁止其駕駛。

【問題44】 答案：C

汽車裝載時，有下列情形之一者，處汽車所有人新臺幣三千元以上一萬八千元以下罰鍰，並責令改正或禁止通行：

- 一. 裝載貨物超過規定之長度、寬度、高度。
- 二. 裝載整體物品有超重、超長、超寬、超高，而未請領臨時通行證，或未懸掛危險標識。
- 三. 裝載危險物品，未請領臨時通行證、未依規定懸掛或黏貼危險物品標誌及標示牌、罐槽車之罐槽體未檢驗合格、運送人員未經專業訓練合格或不遵守有關安全之規定。
- 四. 貨車或聯結汽車之裝載，不依規定。
- 五. 汽車牽引拖架或附掛拖車，不依規定。
- 六. 大貨車裝載貨櫃超出車身之外，或未依規定裝置聯鎖設備。
- 七. 未經核准，附掛拖車行駛。

【問題45】 答案：C

汽車駕駛人於行駛道路時，以手持方式使用行動電話、電腦或其他相類功能裝置進行撥接、通話、數據通訊或其他有礙駕駛安全之行為者，處新臺幣三千元罰鍰。

機車駕駛人行駛於道路時，以手持方式使用行動電話、電腦或其他相類功能裝置進行撥接、通話、數據通訊或其他有礙駕駛安全之行為者，處新臺幣一千元罰鍰。

【問題46】 答案：D

(D)不得任意移動肇事車輛及現場痕跡證據。但無人傷亡且車輛尚能行駛，或有人受傷且當事人均同意移置車輛時，應先標繪車輛位置及現場痕跡證據後，將車輛移置不妨礙交通之處所。

【問題47】 答案：D

(D)申請提供資料所需費用，由申請人負擔。

【問題48】 答案：D

重大道路交通事故：指道路交通事故有下列情形之一者：

1. 死亡人數在三人以上，或死亡及受傷人數在十人以上，或受傷人數在十五人以上。
2. 運送之危險物品發生爆炸、燃燒或有毒液（氣）體、放射性物質洩漏等事故。

【問題49】 答案：B

前條第一款規定適當距離如下：

- 一.高速公路：於事故地點後方一百公尺處。
- 二.快速道路或最高速限超過六十公里之路段：於事故地點後方八十公尺處。
- 三.最高速限超過五十公里至六十公里之路段：於事故地點後方五十公尺處。
- 四.最高速限五十公里以下之路段：於事故地點後方三十公尺處。
- 五.交通壅塞或行車時速低於十公里以下之路段：於事故地點後方五公尺處。

【問題50】 答案：C

事故車輛之車上痕跡、行車資料紀錄設備或其他機件等證據資料尚須檢驗、鑑定或查證者，警察機關得暫時扣留處理，扣留期間不得超過三個月。

107年郵政外勤臺灣自然及人文地理 試題

- 1 我國首座由地方政府率先發起成立的國家公園為何？
(A)墾丁國家公園 (B)金門國家公園 (C)台江國家公園 (D)陽明山國家公園
- 2 位於臺灣東北角的「三貂角」為「聖地牙哥」的音譯而來的地名，請問與哪國人有關？
(A)荷蘭人 (B)西班牙人 (C)日本人 (D)法國人
- 3 臺灣原住民族中，以抗日霧社事件聞名的是哪族？
(A)泰雅族 (B)布農族 (C)噶瑪蘭族 (D)賽德克族
- 4 有「天使的眼淚」之稱的湖泊為何？
(A)嘉明湖 (B)夢幻湖 (C)南仁湖 (D)翠峰湖
- 5 臺灣流域面積最大的河川為何？
(A)淡水河 (B)濁水溪 (C)曾文溪 (D)高屏溪
- 6 高雄港地理條件優越，港灣形勢天成，請問其原本地形為何？
(A)谷地 (B)潟湖 (C)峽灣 (D)岬角
- 7 司馬庫斯為臺灣重要神木林區，請問其位於哪座山脈？
(A)雪山山脈 (B)中央山脈 (C)玉山山脈 (D)阿里山山脈
- 8 下列哪個地區不屬於臺灣的國家公園？
(A)澎湖南方四島 (B)東沙環礁 (C)阿里山 (D)雪霸
- 9 下列哪個縣市目前尚未有高鐵站經過？
(A)苗栗縣 (B)彰化縣 (C)雲林縣 (D)屏東縣
- 10 有「水沙連高速公路」之稱的國道為何？
(A)國道3號 (B)國道5號 (C)國道6號 (D)國道8號
- 11 臺灣檜木為冰河時期遺留下的珍貴物種，稱為「子遺生物」，也是活化石。下列何者也屬於子遺生物？
(A)蝴蝶蘭 (B)梅花鹿 (C)臺灣獼猴 (D)櫻花鉤吻鮭
- 12 台灣位於歐亞板塊與菲律賓海板塊接觸帶上，高聳的褶曲山脈是台灣地形的主體。請問下列台灣哪座山脈屬於菲律賓海板塊的一部分？
(A)雪山山脈 (B)海岸山脈 (C)中央山脈 (D)玉山山脈
- 13 台灣各鄉鎮人口相對密度的空間分布，最適合用下列哪種統計圖來表示？
(A)點子圖 (B)面量圖 (C)圓餅圖 (D)折線圖
- 14 下列何者為台灣目前最主要的發電方式？
(A)火力發電 (B)核能發電 (C)水力發電 (D)地熱發電

- 15 離岸風力機的架設除了考量風場條件外，亦須考量海底地形是否平淺。請問下列哪個地方較適合發展離岸風電？
(A)花蓮外海 (B)基隆外海 (C)彰化外海 (D)墾丁外海
- 16 桃園台地因河川流路短、流量少，故清代時即發展出下列哪項水利設施？
(A)埤塘 (B)水圳 (C)水庫 (D)水井
- 17 若希望在颱風過後能迅速掌握土石流發生的範圍及災害的程度，下列哪種資料較能符合這種即時性的需求？
(A)相片基本圖
(B)無人機空拍影像
(C)Google Map網站地圖
(D)經建版1/25000地形圖
- 18 當颱風過境，引進強烈西南氣流，下列何地較常出現焚風？
(A)恆春 (B)台北 (C)南投 (D)台東
- 19 亞泥花蓮新城山礦權於2017年11月23日起展延20年，引起當地居民下列哪個原住民族激烈抗爭？
(A)鄒族 (B)阿美族 (C)排灣族 (D)太魯閣族
- 20 1990年代，為促進台灣東西部經濟均衡發展，政府提出「產業東移」政策，其中水泥產業在花蓮設廠的主要區位考量為何？
(A)勞工充足 (B)原料豐富 (C)動力充足 (D)市場廣大
- 21 全聯超市於2016年併購松青超市，總店數超過800家以上。請問上述現象與哪些生產特徵相符？甲、水平整合 乙、垂直整合 丙、規模經濟 丁、聚集經濟
(A)甲丙 (B)甲丁 (C)乙丙 (D)乙丁
- 22 台灣西部濱海地區因下列何種產業超抽地下水引發地層下陷，導致海水倒灌而使土地鹽化？
(A)水稻種植 (B)畜牧事業 (C)養殖漁業 (D)石化產業
- 23 若要進行全球暖化海平面上升10公尺後的淹水模擬，最適合以地理資訊系統何項功能來處理？
(A)地勢分析 (B)環域分析 (C)疊圖分析 (D)最佳路徑分析
- 24 交通革新有助於農業專業化的發展，請問下列哪項交通路線完工是影響彰化溪湖及雲林西螺蔬菜專作區形成的重要交通因素？
(A)高速鐵路 (B)台鐵西部幹線 (C)中山高速公路 (D)福爾摩沙高速公路
- 25 澎湖群島為熔岩台地地形，平均年降雨量僅約1000mm，為臺灣降雨量最少的地區。下列何種降水類型在該地出現的機率最低？
(A)對流雨 (B)地形雨 (C)颱風雨 (D)鋒面雨
- 26 下列何者為新北市舉辦的節慶活動？
(A)鶯歌陶瓷嘉年華 (B)國際童玩藝術節 (C)三義木雕藝術節 (D)平溪放天燈節慶

- 27 台灣國寶魚「櫻花鉤吻鮭」的保護區是位於哪個國家公園內？
(A)墾丁國家公園 (B)雪霸國家公園 (C)玉山國家公園 (D)太魯閣國家公園
- 28 昔日台灣有「香蕉王國」的稱號，當時最具有代表性的產地是為何？
(A)新北泰山 (B)桃園龜山 (C)高雄旗山 (D)高雄岡山
- 29 全台地震頻率最高的地區為何？
(A)澎湖群島 (B)花東縱谷 (C)臺北盆地 (D)彰化平原
- 30 清末台灣的首任巡撫，進行鐵路、照明、郵政等現代化基礎建設，因而有「台灣現代化之父」之稱的是下列何者？
(A)蔣渭水 (B)巴克禮 (C)劉銘傳 (D)袁世凱
- 31 下列何者為台灣歷史最悠久的經濟作物？
(A)稻米 (B)甘蔗 (C)樟腦 (D)茶葉
- 32 屏東縣小琉球有美人洞、山豬溝等景點，這些景點是屬於下列何種地形？
(A)火山地形 (B)河蝕地形 (C)風蝕地形 (D)石灰岩地形
- 33 台灣高鐵哪段因地層下陷問題，最需要進行監測和維護工程？
(A)台北-新竹路段 (B)苗栗-台中路段 (C)彰化-雲林路段 (D)台南-高雄路段
- 34 台灣唯一分布於離島的原住民族群為何？
(A)邵族 (B)達悟族 (C)噶瑪蘭族 (D)太魯閣族
- 35 台灣鄉鎮中若有「廊」的地名，最可能進行與哪種產業相關的「社區總體營造」？
(A)伐林 (B)曬鹽 (C)蔗糖 (D)樟腦
- 36 下列何者為清代引濁水溪灌溉中部地區的水利設施？
(A)曹公圳 (B)瑠公圳 (C)八堡圳 (D)嘉南大圳
- 37 台灣自1961年開始推動國家公園與自然保育工作，並於1972年制定「國家公園法」，陸續設立了9座國家公園，其中以保育玄武岩地質和梯田式菜宅人文地景的是哪座國家公園？
(A)金門 (B)台江 (C)陽明山 (D)澎湖南方四島
- 38 根據農委會水保局的調查，台灣哪個縣市的土石流潛勢溪流數量最多？
(A)新北市 (B)苗栗縣 (C)南投縣 (D)花蓮縣
- 39 根據交通部觀光局的統計，近十年來台主要客源國旅客，以下列哪個地區比例最高？
(A)歐洲 (B)澳洲 (C)亞洲 (D)北美洲
- 40 台灣有些地區被形容為「風頭水尾」，其所指的是哪種地理環境？
(A)高灘地 (B)沖積扇頂 (C)山谷地帶 (D)沿海地帶
- 41 由於終止興建國光石化，使哪個濕地得以保存下來？
(A)芳苑濕地 (B)好美寮濕地 (C)七股濕地 (D)無尾港濕地
- 42 1950年代盛行於臺灣西南沿海的烏腳病，其病源來自下列何者？
(A)含砷地下水 (B)空氣霧霾 (C)汞汙染稻田 (D)含鎘河水

- 43 首次使用測繪技術繪製而成的臺灣堡圖，係於何時繪製完成？
(A)明末時期 (B)清領時期 (C)日治時期 (D)民國時期
- 44 臺灣目前正位於哪個人口轉型階段？
(A)高穩定階段 (B)早期擴張階段 (C)晚期擴張階段 (D)低穩定階段
- 45 金門島上林立的風獅爺，是當地居民為了鎮風驅邪而設立，其臉部主要都朝向何方？
(A)西北方 (B)西南方 (C)東北方 (D)東南方
- 46 大屯火山的形成方式，與下列何者不同？
(A)蘭嶼紅頭山 (B)綠島火燒山 (C)九份基隆山 (D)澎湖奎壁山
- 47 台灣位於環太平洋火環，台灣本島周邊離島有許多離島，下列哪些為火山島？甲、綠島 乙、金門島 丙、琉球嶼 丁、龜山島 戊、澎湖群島
(A)甲乙丙 (B)甲丁戊 (C)乙丙丁 (D)丙丁戊
- 48 巨大機械於1972年成立於台中，1992年以後，陸續在中國、荷蘭設廠。中國廠的產品，多在該地銷售或外銷東南亞；荷蘭廠和臺灣廠的產品，多在歐洲銷售。下列哪個概念最適合說明巨大機械在各地設廠的時空特性？
(A)區位聚集 (B)區位擴散 (C)空間移轉 (D)產業連鎖
- 49 日本博物學家鹿野忠雄曾經多次考察雪山，發表臺灣高山圈谷為冰河地形遺跡的論文。請問圈谷即為冰河地形中的哪種地形？
(A)冰斗 (B)角峰 (C)刃嶺 (D)U型谷
- 50 濁水溪沖積扇、屏東平原、花東縱谷與蘭陽平原為台灣地下水資源豐富的區域，請問上述區域蘊藏豐富地下水的共同環境條件為何？
(A)地勢平緩坡度起伏小
(B)透水性佳的砂礫地層
(C)年降水量豐且無乾季
(D)植被茂密的原始森林
- 51 拉拉山的果農自己或透過與網路平台合作，以電子商務結合物流配送，將農產品販售給消費者，以提高農家收益。請問農家收益增加的主要原因為何？
(A)商闖變小 (B)商闖變大 (C)商品圈變小 (D)商品圈變大
- 52 近年來影響台灣空氣品質的因素，除了境外汙染源外，因乾季少雨與裸露地表造成的本土沙塵亦不容忽視。若據此推論，下列哪個時空環境，沙塵汙染最為嚴重？
(A)春季北部 (B)夏季東部 (C)秋季中部 (D)冬季南部
- 53 南投縣埔里鎮虎頭山是台灣的地理中心，座標約為 24°N ， 121°E ，下列哪個地點距該地理中心的直線距離最遠？
(A) $(24^{\circ}\text{S}$ ， 121°E) (B) $(24^{\circ}\text{S}$ ， 59°W) (C) $(46^{\circ}\text{N}$ ， 59°W) (D) $(90^{\circ}\text{S}$ ， 121°E)
- 54 先民記載的「麒麟風」或「麒麟暴」，主要是以廟宇中麒麟的形象來形容下列哪種空氣的流動現象？
(A)焚風 (B)季風 (C)颱風 (D)龍捲風

- 55 新竹北埔一級古蹟「金廣福公館」建築，在當時是作為下列何種用途？
(A)軍事據點 (B)茶葉製造 (C)避難場所 (D)開墾業務辦事處
- 56 持續進行中的蘇花改造工程，主要是為了解決原本蘇花公路沿線經常會遇到的哪種災害？
(A)地層下陷 (B)土石崩落 (C)土壤液化 (D)海水入侵
- 57 地名往往可以反映區域開發和歷史演變的過程，下列哪個地名是源於日語的地名？
(A)柳營 (B)關渡 (C)王田 (D)松山
- 58 根據內政部戶政司2015年對台灣六都人口遷徙的統計資料，2015年台灣六都中哪兩都的人口有淨遷入？
(A)新北市、桃園市 (B)桃園市、台中市 (C)台中市、台南市 (D)高雄市、台北市
- 59 目前台灣的人口數與下列哪個國家的人口數最接近？
(A)韓國 (B)澳洲 (C)荷蘭 (D)加拿大
- 60 台灣檜木林兼具針葉林及闊葉林的特性，主要分布的位置以雲霧帶為主，故被稱為「霧林」，請問台灣檜木林分布的高度為何？
(A)500–1000公尺 (B)1000–1500公尺 (C)1500–2500公尺 (D)2500–3500公尺

107年郵政外勤臺灣自然及人文地理 詳解

【問題1】 答案：C

台江國家公園，為中華民國第八座國家公園，也是首座都市型國家公園，首座由地方政府率先發起成立的國家公園，2009年12月28日正式掛牌成立。台江一名，源自歷史上的台江內海，多已陸化為濕地或魚塢。範圍包括臺南市安南區與七股區濱海陸域，包含四草、鹿耳門、原安順鹽田周遭、七股潟湖以及海域至澎湖縣東吉嶼。

【問題2】 答案：B

三貂角：台灣最東處，地名源自西班牙人取名「聖地牙哥」。

【問題3】 答案：D

賽德克族：霧社事件由莫那魯道率領各部落抗日，為第14族。

霧社事件是臺灣人在日治時代最後一次武裝抗日行動。雖然在1896年日本佔據至1920年間，臺灣原住民死士先後發動150餘次武裝抗日行動，但仍以日後發生的霧社事件最為慘烈。

【問題4】 答案：A

嘉明湖的湖水深藍如寶石，又被稱「天使的眼淚」。

【問題5】 答案：D

淡水河的河川長度最長；高屏溪的河川面積最大。

【問題6】 答案：B

高雄港是台灣第一大港、世界第15大港口，高雄港所在灣區是一狹長海灣，原為一潟湖，總長度12公里，寬度約為1公里至1.5公里。

【問題7】 答案：A

司馬庫斯部落位於新竹縣尖石鄉玉峰村，為雪山山脈主稜的山腰，海拔高度約1,500公尺。

【問題8】 答案：C

阿里山是台灣的「國家風景區」與「森林遊樂區」。

【問題9】 答案：D

高鐵停靠站：南港→台北→板橋→桃園→新竹→苗栗→台中→彰化→雲林→嘉義→台南→左營。

【問題10】 答案：C

國道三號：福爾摩沙高速公路。

國道五號：蔣渭水高速公路。

國道六號：水沙連高速公路。

國道八號：台南支線。

【問題11】 答案：D

櫻花鉤吻鮭是位於亞熱帶之台灣唯一的一種溫帶性魚類，是在冰河時期來到台灣的，所以也被稱為是一種冰河子遺生物，也是只產於台灣的特有櫻鮭亞種。由於稀有與瀕臨絕種，加上其生活習性迥異於其他魚類，遂得「國寶魚」之美譽。新臺幣2,000圓券，背面印有櫻花鉤吻鮭。

【問題12】 答案：B

菲律賓海板塊與歐亞板塊撞擊隱沒後，形成一串火山帶，此一火山帶為臺灣海岸山脈。

【問題13】 答案：B

點子圖適合瞭解某縣市的人口聚集在哪些市鎮；面量圖適合瞭解各鄉鎮人口相對密度的空間分布；圓餅圖適合用於百分比，如某縣市佔我國的百分比；折線圖適合表示某縣市逐年人口變化。

【問題14】 答案：A

火力發電量占比約達8成，為台灣目前最主要的發電方式。

【問題15】 答案：C

台灣東部海域幾無大陸棚，陡深的海深不適合發展離岸風力發電，因此風機都建在西部的台灣海峽上。全國36個被評估為適合開發綠能風力發電的離岸風場，彰濱工業區的外海就占21個，居全國之冠。

【問題16】 答案：A

桃園臺地群在清治時期時，是個土壤貧瘠的農業區。由於缺乏大河川可以灌溉，以及海風所帶來的風沙的影響，農業收成並不好，開發也較晚。居民們為了灌溉，挖埤塘來蓄水，造成桃園臺地群水塘遍布的景象，桃園地區埤塘最多曾達8,846個，贏得「千塘鄉」的美稱。有埤塘的地方就有聚落，蓄水灌溉，養魚休閒，甚至是風水景觀兼具，因此，昔日桃園農漁牧興盛，物產富饒，造就了桃園的「埤塘文化」。

【問題17】 答案：B

無人機空拍影像可以在災害發生後的第一時間起飛並拍攝，即使掌握發生的範圍及災害的程度。

【問題18】 答案：D

焚風是出現在山脈背面的乾熱風，從山上沿山坡向下吹，台東-成功地區時常出現。

【問題19】 答案：D

亞泥花蓮新城山礦權展限20年，引起礦場下方的大魯閣族人抗爭，擔心山崩地滑、土石流危害身家財產。

【問題20】 答案：B

水泥產業在花蓮設廠的主要區位考量為充分善用東部既有原料豐富的資源，水泥是利用石灰石在高壓下製成，石灰石又大又硬不易搬動，故水泥廠應優先考慮原料區位。

【問題21】 答案：A

水平整合：併吞或收購不具有上下游關係但產品性質或定位相似的工廠或企業。
規模經濟：指擴大生產規模引起經濟效益增加的現象，是長期平均總成本隨產量增加而減少特性。

【問題22】 答案：C

養殖業者有超抽地下水引起地層下陷問題。

【問題23】 答案：A

地勢分析是指應用數值地形模型（Digital Terrain Model，簡稱DTM），透過電腦處理與運算，比較某一空間單元內相鄰兩地的高度值，進行坡度、坡向、視域等相關地理資訊的分析。

【問題24】 答案：C

彰化溪湖來往雲林西螺最佳交通路線為國道一號，國道一號又稱中山高速公路。

【問題25】 答案：B

澎湖因地勢平坦、缺乏高山，即使季風吹拂亦不能產生地形雨，故雨量稀少。

【問題26】 答案：A、D

新北鶯歌陶瓷嘉年華、宜蘭國際童玩節、苗栗三義木雕藝術、新北平溪天燈節。

【問題27】 答案：B

雪霸國家公園內有瀕臨絕種的櫻花鉤吻鮭。櫻花鉤吻鮭僅存於七家灣溪，且只生存在16度的溪水中。

【問題28】 答案：C

旗山鎮有「香蕉王國」的美譽，光復後旗山鎮發展與香蕉產業的興衰息息相關，至今香蕉產業沒落之餘，旗山的農業除了香蕉外，部份蕉農已轉作木瓜，檸檬，芭樂，蓮霧，絲瓜等，改造。

【問題29】 答案：B

東部地震帶係直接肇因於菲律賓海板塊與歐亞板塊碰撞所造成，地震頻率高，震源深度較淺。

【問題30】 答案：C

劉銘傳，是一位出身安徽合肥的淮軍將領和臺灣巡撫。他是淮軍的領導者之一，並在中法戰爭中於臺灣地區率軍擊退法軍，又在隨後被任命為臺灣建省後首任巡撫，復積極於當地推行各種現代化建設並為其奠定相關基礎。

【問題31】 答案：B

甘蔗為台灣歷史最悠久的經濟作物，早在17世紀就有生產的紀錄。

【問題32】 答案：D

小琉球為台灣所有附屬島嶼中唯一的珊瑚礁島，表面被珊瑚石灰岩覆蓋，海岸被隆起的珊瑚礁圍繞。石灰岩洞地形及珊瑚礁海岸地形遍佈全島，較著名的如烏鬼洞、美人洞、山豬溝等。

【問題33】 答案：C

高鐵長年受地層下陷威脅，下陷最嚴重的地區落在彰化雲林段，因西南沿岸養殖漁業導致。

【問題34】 答案：B

達悟族，舊稱雅美族或耶眉族，是南島語系唯一分布在離島的民族，分布於東南外海的蘭嶼上，人口約四千餘人，是海洋民族，以捕魚為主要產業，並有飛魚祭等歲時祭儀。

【問題35】 答案：C

糖廊，又稱為蔗廊，是製糖的場所，也是臺灣早期的製糖工廠，由壓榨甘蔗的棚屋和煮糖的熬糖屋所構成。其所產的糖為赤糖，即黑糖，這些糖有部分會再經由「糖間」加工成白糖。

【問題36】 答案：C

彰化平原的八堡圳是引自濁水溪的水(建設於康熙末年)。

【問題37】 答案：D

澎湖南方四島國家公園：玄武岩地質、特有種植物、保育類野生動物、珍貴珊瑚礁生態與獨特梯田式菜宅人文地景等多樣化的資源。

【問題38】 答案：C

根據農委會水保局的調查，土石流潛勢溪流如下：

(A)新北市合計235條。

(B)苗栗縣合計80條。

(C)南投縣合計262條。

(D)花蓮縣合計169條。

縣市排行榜：南投第一，新北次之，再者為花蓮及台東。

【問題39】 答案：C

根據交通部觀光局的統計，近十年來台主要客源國，絕大多數來自亞洲。

【問題40】 答案：D

台灣人說風頭水尾就是說一種艱苦艱難，在風頭替人頂風、在水尾用人家用剩的水，通常是指彰化雲林、嘉義三縣的濱海地區。

【問題41】 答案：A

芳苑濕地位於彰化縣，擁有全台最大、寬達6公里的濕地潮間帶，紅樹林以海筊冬為主，次為水筆仔，是保育類鳥類大杓鷗、黑嘴鷗等鳥類重要棲地。2006年國光石化公司為興建八輕，選定大城鄉海埔地為工業區。2011年國光石化公司大城開發案終止。

【問題42】 答案：A

烏腳病隨著自來水普及已大幅減少。真正致病原因仍未明確，據臨床研究顯示可能與飲用井水中的砷中毒，螢光物質、土壤中的腐質酸、麥角生物鹼或其他營養遺傳基因等生態循環有關聯。

【問題43】 答案：C

《臺灣堡圖》，是1904年（日明治37年）完成的臺灣地形圖，比例尺為2萬分之1。繪製範圍涵蓋原住民主要居住地（蕃地）以外的平原、丘陵地帶，共計466張地圖（內含1張一覽圖）。

【問題44】 答案：D

一旦進入工業化後期，出生率也逐漸降低而略高於死亡率，人口再度恢復緩慢成長，此即低穩定階段。此一人口成長模式形適用於多數當今發展中的國家。

【問題45】 答案：C

風獅爺：多設於村落四周外圍的迎風面、路口，或者寺廟周圍，以作為傳統「鎮風、制煞」之用，產生風水學上的制水煞、擋路箭等功能。因金門東北季風強勁，故風獅爺也多朝東北或北方，材質則多以金門在地的花崗石材或泉州白石，以及水泥、磚石等製成，也有使用黏土塗上灰泥的作品。

【問題46】 答案：D

澎湖奎壁山：熔岩台地。

大屯火山、蘭嶼紅頭山、綠島火燒山、九份基隆山：圓錐狀火山。

【問題47】 答案：B

火山島：澎湖群島(寧靜式噴發)。蘭嶼、綠島、龜山島、釣魚臺列嶼(猛烈式噴發)。

【問題48】 答案：B

區位擴散：企業為了有效降低管理、生產與銷售成本而實行供應鏈管理，即中、下游的生產與銷售據點向生產成本較低的地區轉移。

【問題49】 答案：A

冰斗是由山地冰川侵蝕而形成的，一種三面環山的凹地，如果冰已經消失，也被稱為圍谷、圈谷。

【問題50】 答案：B

平原的地下水蘊藏最為豐沛，因為臺灣平原皆屬於河流的沖積扇平原，因此蘊藏大量地下水資源。透水性佳的砂礫地層是蘊藏豐富地下水的共同環境條件。

【問題51】 答案：D

商闕：一家商店維持營運所需要的最低消費者居住範圍。

商品圈：有意願到該店購物消費者的居住範圍。

【問題52】 答案：D

冬季時，在東北季風吹拂下，南部地區成為下風處，許多來自中國大陸及台灣中北部的污染物容易堆積於此，且冬季南部雨量最少，沙塵污染最為嚴重。

【問題53】 答案：B

對蹠點：某位置的對蹠點是該位置在地球上距離最遠的地方。

對蹠點推算：經度減180度，緯度南北互換。

24°N南北互換，24°S。

121°E-180°=59°W。

【問題54】 答案：A

廟宇壁畫或雕刻的麒麟，四足帶有火焰，而焚風使草木枯焦，就像是風中帶火，故用「麒麟風」來稱呼焚風。

【問題55】 答案：D

金廣福公館，是一處位於新竹縣北埔鄉的國定古蹟，原為中華民國第一級古蹟中，唯一的宅第類古蹟。為清朝官方支持之下共同設立閩粵合股之武裝拓墾組織。

【問題56】 答案：B

蘇花公路為東部與北部區域間唯一聯外公路，沿線地勢險峻，大部分臨海鑿岩闢建，邊坡因長期風化侵蝕剝落，而且沿路外海太平洋海底處於歐亞板塊與菲律賓海板塊交界帶，地震發生非常頻繁，邊坡土石極易鬆動，不論天候晴雨都可能有落石坍方，2011年啟動蘇花改造工程，就是為了改善蘇花公路的安全性。

【問題57】 答案：D

「松山」是臺北市轄下的行政區，有「臺北華爾街」之稱，名稱由來一說是因為當地風景和四國的松山相似，另一說是因為附近山丘多松樹。松山原為日式地名，其發音為日語之「Matsuyama」，在日治時期對外音譯均採用之。

【問題58】 答案：B

桃園市、台中市人口有淨遷入。

【問題59】 答案：B

澳洲人口於2021年3月底有25,772,100人，與台灣相近。

【問題60】 答案：C

臺灣的檜林分布約於海拔1,500至2,800公尺間，而以1,800公尺至2,400公尺為主要的分布區。其中紅檜生長環境約低於扁柏三至五百公尺，又因溫差效應，導致整體天然檜木林海拔分布有北低南高現象，且在中部以北山域扁柏居多、中部以南紅檜為首。

郵政外勤臺灣自然及人文地理 模擬試題

- 1 有「國之北疆」之稱的東引鄉，屬於哪個縣市？
(A)連江縣 (B)宜蘭縣 (C)新北市 (D)澎湖縣
- 2 清末，臺灣經濟重心逐漸北移，此情形最可能與下列何種作物的出口息息相關？
(A)鹿皮 (B)稻米 (C)蔗糖 (D)茶葉
- 3 某國中的校外教學，預計參訪清代遺留下來的「阿猴東城門」。該史蹟位在下列哪個縣市？
(A)臺東縣 (B)屏東縣 (C)高雄市 (D)臺南市
- 4 某刊物刊載：「這座山脈跨越高雄、南投、嘉義等縣市，是濁水溪、高屏溪等河川最重要的上游集水區。主峰海拔超過3,500公尺，鄰近地區崇山峻嶺，溪谷深邃，天然植被隨海拔之變化而異。」引文所述的山脈應為下列何者？
(A)中央山脈 (B)玉山山脈 (C)海岸山脈 (D)阿里山山脈
- 5 臺灣某鄉鎮的柿餅全臺聞名，於每年農曆過年前，當地農會多會舉辦行銷柿餅的活動。該鄉鎮最可能指的是下列何處？
(A)花蓮縣光復鄉 (B)屏東縣霧臺鄉 (C)雲林縣口湖鄉 (D)新竹縣新埔鎮
- 6 臺灣下列哪個地區的媽祖廟，祭祀歷史最為悠久？
(A)鹿港天后宮 (B)大甲鎮瀾宮 (C)澎湖天后宮 (D)臺南大天后宮
- 7 臺灣某個原住民族，流傳著下列的祖靈傳說。傳說在古時候，太陽來到世間，產下兩個紅白顏色的蛋，並且指定百步蛇保護它們。兩個蛋孵出一男一女，這兩個人就是該原住民的祖先。這個傳說最可是下列哪個原住民族的故事？
(A)泰雅族 (B)魯凱族 (C)阿美族 (D)賽夏族
- 8 金門縣烈嶼鄉特有的鎮風信仰「風雞」，具有鎮風、除蟲的意涵。其雞頭通常最可能是朝向下列哪個方向？
(A)西北 (B)西南 (C)東北 (D)東南
- 9 莫拉克風災迄今已經十年，當年造成嚴重災情的那瑪夏，位於臺灣的哪個縣市？
(A)屏東縣 (B)臺東縣 (C)高雄市 (D)南投縣
- 10 高速公路橫跨濁水溪的「中沙大橋」，為十大建設—中山高速公路施工時最艱難的工程。橋名的「中」字，代表中華民國，而「沙」的意義為下列何者？
(A)橋底多河中沙洲分布
(B)沙烏地阿拉伯出資協建
(C)橋樑工程大量使用砂石
(D)此河段為臺灣重要採砂場

- 11 下圖照片為某縣市文化局設計的文創商品。該縣市與六都中其他直轄市相較具有下列哪項人文特色？



- (A)移入率最高 (B)人口密度最小 (C)平均薪資最低 (D)原住民人數最多
- 12 下列哪個臺灣地名的來源，不同於其他三者，最可能與原住民族語言有關？
(A)苗栗 (B)彰化 (C)嘉義 (D)桃園
- 13 臺灣鄉村傳統民宅的構築，幾乎都受空間觀念與文化習俗的支配。下列諺語中何者最能反映「合院式建築」周圍環境的特色？
(A)一邊船，一邊岸
(B)十年河東，十年河西
(C)田無溝，水無流
(D)頭前魚池，後壁果子
- 14 中華白海豚主要棲息在苗栗縣通霄鎮到雲林縣臺西鄉的海域。農委會林務局為讓漁民和社會大眾了解白海豚的生態，最可能曾就近在下列哪個漁港的漁民活動中心，設置臺灣首座的「白海豚生態教室」？
(A)蘇澳港 (B)安平港 (C)臺北港 (D)梧棲港
- 15 從前在日本，只有生病的人才資格吃香蕉，當時香蕉在日本就像蘋果在臺灣一樣的珍貴，相對的，臺灣卻盛產香蕉，曾有「香蕉王國」的美譽。臺灣盛產香蕉的最主要因素為下列何者？
(A)土壤 (B)氣候 (C)水文 (D)地形

16 新聞報導指出：「紐西蘭毛利人部落傳統領袖Arapeta Hamilton表示，花蓮豐濱沿海原住民族的語言、刺青、雕刻圖騰，都與他的部落相同，甚至是一種用腿部揉搓草繩的編織技術，也只有在臺灣跟紐西蘭看過。」文中的提到的原住民族，最可能指的是下列哪個族群？

- (A)泰雅族 (B)阿美族 (C)卑南族 (D)賽德克族

17 下列哪些鄉鎮市區層級的地名，是「錯誤」的寫法〔錯別字〕？

- (A)新竹縣峨眉鄉 (B)苗栗縣通霄鎮 (C)臺中市石崗區 (D)彰化縣溪州鄉

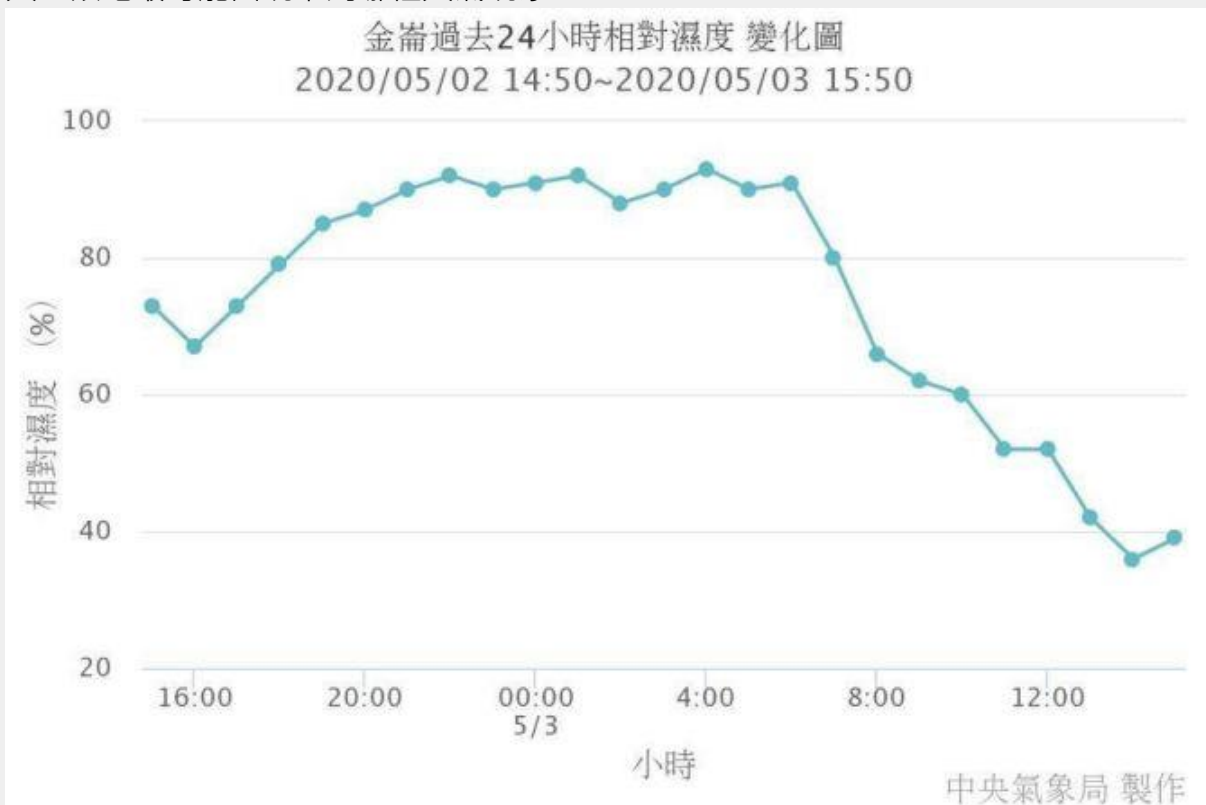
18 在臺灣農業的發展上，早期中南部地區農民為了穩定收成必須開築水利灌溉設施，其主要的原因為何？

- (A)降水不足 (B)河川短小 (C)雨季過於集中 (D)降水強度大。

19 燈塔的「塔高」指的是燈塔建築物本身的高度，「燈高」指的是塔的海拔高度。下列何者為臺灣本島唯一塔高高於燈高的燈塔？

- (A)臺東縣綠島燈塔 (B)彰化縣芳苑燈塔 (C)屏東縣鵝鑾鼻燈塔 (D)新北市鼻頭角燈塔

20 下圖為位於臺東市以南的金崙地區，在2020年5月2-3日的溼度變化圖。在5月3日當天，該地最可能出現下列哪種天氣現象？



- (A)半夜以前有冷空氣南下
(B)下午兩點的溫度達到最低
(C)早上六點東北風開始增強
(D)中午以前開始出現焚風現象

- 21 早期台北地區的灌溉水圳為？
(A)瑠公圳
(B)八堡圳
(C)貓霧寮圳
(D)曹公圳。
- 22 近年全球吹起了一股興建 / 擴建飛機場的熱潮，因機場在全球關聯愈發緊密的今日，功能大幅擴張，已成為全球化的新核心。「今天的機場，就像是50年前的火車站，100年前的海港……」以交通革新的角度而言，引文內的譬喻反映了下列哪種現象？
(A)運輸時間縮短 (B)運輸總量減少 (C)運輸費用降低 (D)運輸距離縮減
- 23 以下臺灣四個鄉鎮區中，哪個位於濁水溪南岸，並以米與醬油聞名？
(A)高雄美濃 (B)台東池上 (C)苗栗三義 (D)雲林西螺
- 24 臺灣最大的淡水湖泊，風景優美，不但吸引國內外遊客造訪，更因舉辦泳渡、自由車、與馬拉松而知名。上述的湖泊名稱為何？
(A)南仁湖 (B)澄清湖 (C)日月潭 (D)鯉魚潭
- 25 臺灣近年來積極與亞洲周邊各國簽署經濟合作協定，雖有利臺灣工商、服務產業的發展，但也對農業發展造成衝擊，若以農業發展的角度來看，臺灣與下列哪個國家簽署協定，對本土農業的衝擊可能最小？
(A) 越南 (B) 新加坡 (C) 菲律賓 (D) 印度尼西亞。
- 26 臺灣的「雙年賞蝶」觀光，主要在每年的11月開始至隔年3月，期間會有上百萬隻紫斑蝶遷往阿里山山脈的山谷躲避寒冬，堪稱與美洲的「帝王斑蝶谷」齊名。要欣賞此生態現象，最適合前往下列哪個國家風景區？
(A)參山國家風景區 (B)茂林國家風景區 (C)大鵬灣國家風景區 (D)花東縱谷國家風景區
- 27 以下臺灣四個村里中，何者的海岸地形最可能屬於沙岸？
(A)高雄市林園區港埔里
(B)宜蘭縣蘇澳鎮東澳里
(C)新北市瑞芳區鼻頭里
(D)嘉義縣梅山鄉過山村
- 28 臺中市某老人長期照顧中心，原為幼稚園，後來因為○○○的原因，才進行改建。該原因最可能為下列何者？
(A)國際化 (B)少子化 (C)汙染多 (D)移工多
- 29 克里奧爾語 (Creole Language) ，指的是一種混合多種不同語言詞彙，也稱為混合語。例如，臺灣在下列哪個縣市，即可見到泰雅語與日語整合在一起的混合語？
(A)屏東縣 (B)宜蘭縣 (C)嘉義縣 (D)臺東縣

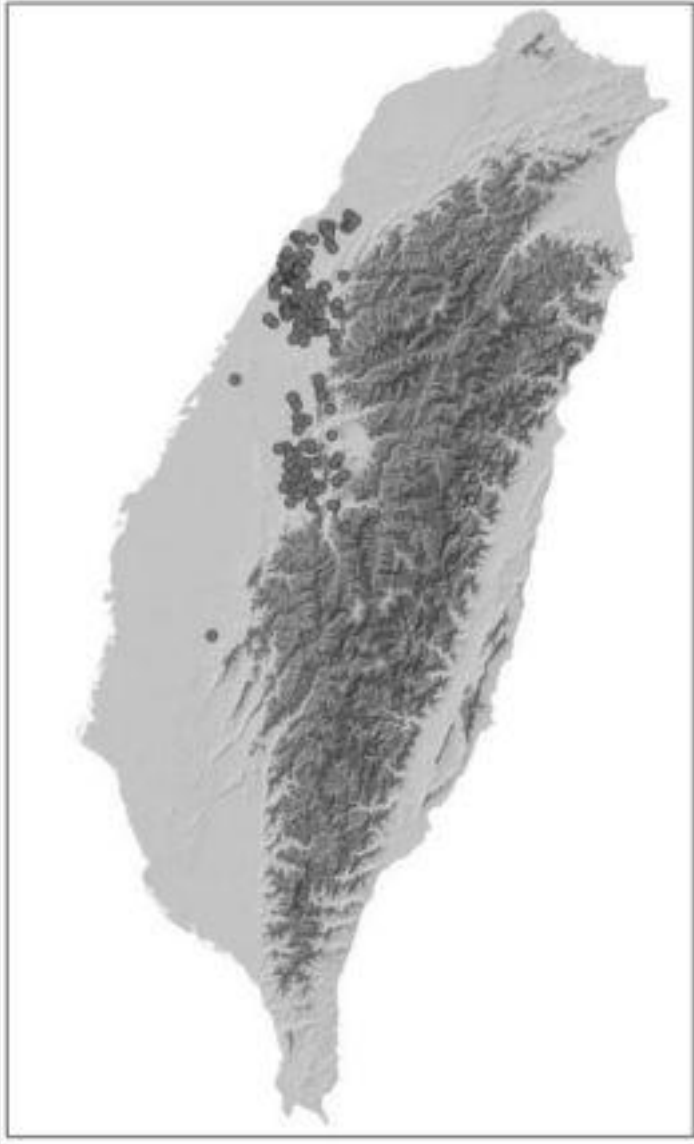
- 30 為了推動非核家園，在政府鼓勵及提供優惠條件下，「農田種電」（在農田搭建太陽能板）的景觀如雨後春筍般大量冒出（如下圖）。但若政府未好好把關，演變成「種電為主、農業為輔」的情況，將對農業發展造成極不利的影響。這種「農田種電」的景觀在下列哪些縣市最常見到？甲、宜蘭縣，乙、雲林縣，丙、臺南市，丁、屏東縣



- (A)甲乙丙 (B)甲乙丁 (C)甲丙丁 (D)乙丙丁

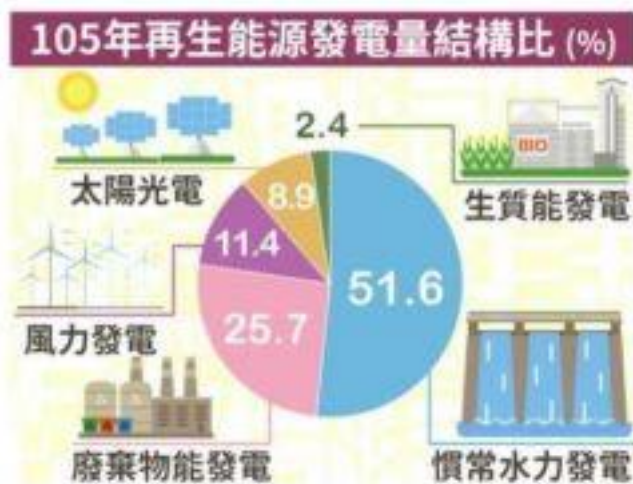
- 31 某人到一處熱門的觀光景點旅行，沿途參觀了別具特色的山城聚落、日式房舍建築群與黃金神社，又參訪了礦業博物館，並品嚐美味的芋圓。上述最有可能出現在下列哪個「世界文化遺產」潛力點？
- (A)馬祖戰地文化
 - (B)水金九產業遺址
 - (C)阿里山森林鐵路
 - (D)紅毛城及其周邊歷史建築群

32 下圖中的圓點為臺灣某種保育類生物的目擊記錄點。這種生物最可能為下列何者？



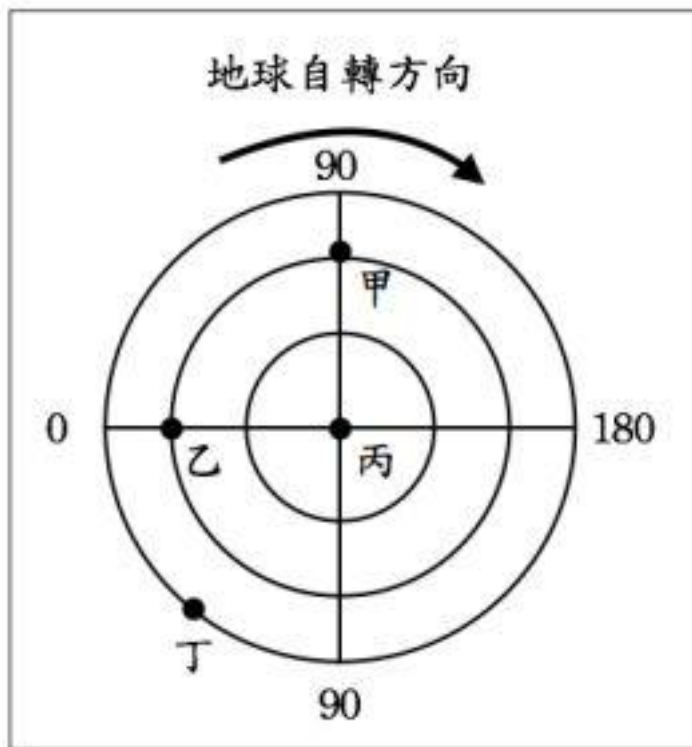
(A)石虎 (B)紫斑蝶 (C)黑面琵鷺 (D)臺灣黑熊

- 33 我國政府正積極的改善火力發電設備，與開發再生能源的發電產能。以目前臺灣再生能源發電量由大到小排列，應為下列何者？



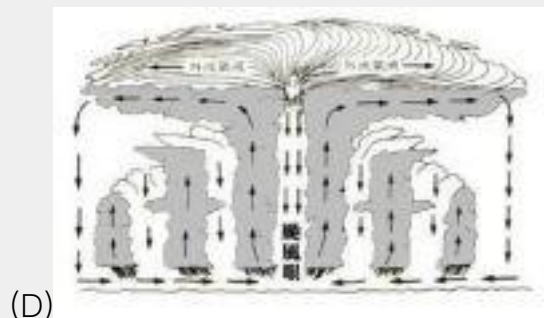

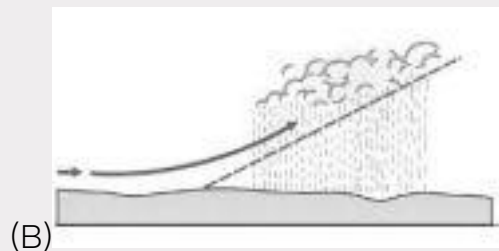
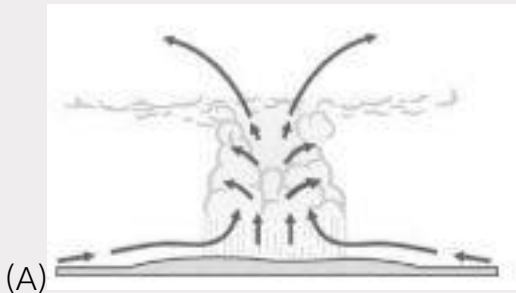
- (A)太陽光電、風力發電、水力、廢棄物發電
(B)風力發電、水力、太陽光電、廢棄物發電
(C)水力、廢棄物發電、風力發電、太陽光電
(D)廢棄物發電、太陽光電、水力、風力發電
- 34 屏東熱帶博覽會的宣傳，常會結合時事而進行裝置美化，例如某一年將稻米田布置成電影—惡靈古堡畫面，吸引了大批人潮。地方政府努力推動農村再生，讓屏東再度活化，該地當初農業沒落的原因最可能為下列何者？
(A)過度耕作，導致土地荒漠化
(B)農村青年離鄉工作，農村閒置
(C)都市更新，致使農地無法利用
(D)地層下陷，導致農地大面積休耕
- 35 臺灣社會目前面臨許多人口議題亟待解決，但不包括下列何者？
(A) 少子化 (B) 高齡化 (C) 外來住民增加 (D) 壯年人口過多。
- 36 某學校校園長度約240公尺，寬度約160公尺，若要將校園平面圖輸出在一張50公分長，36公分寬的白紙上，用下列哪個比例尺，最能夠充分利用該紙張的空間？
(A)1：500 (B)1：1000 (C)1：1500 (D)1：2000。

37 下圖中的甲~丁分別位於地球上的四個位置。關於兩地之間行進方向的敘述，下列何者正確？



(A)甲→乙：往西南 (B)乙→丙：往東 (C)丙→丁：往北 (D)丁→甲：往東北

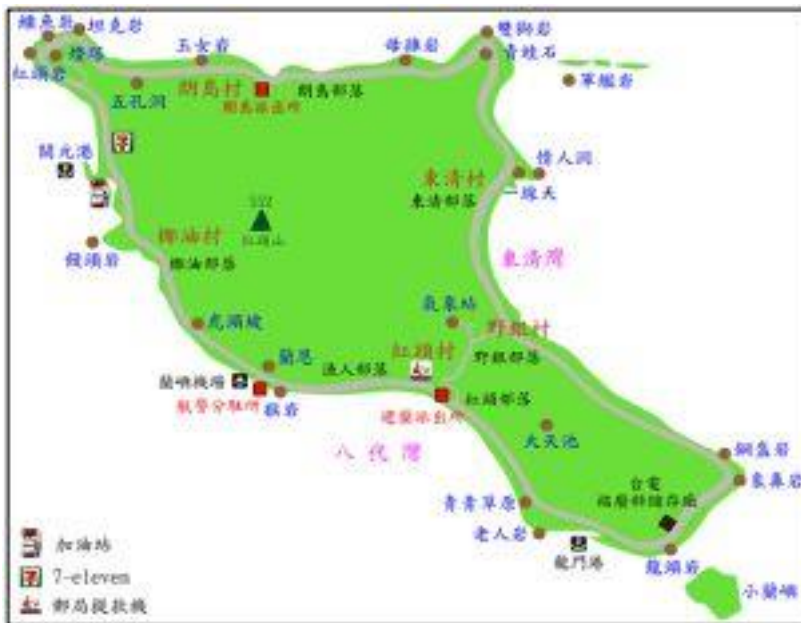
38 某人閱讀國文課本短文：「下午大雨滂沱，霹靂環起，若非蕃薯田在家屋邊，近在咫尺，真要走避不及。低著頭一心一意要把蕃薯蒂趕快摘完，霎時間，天昏地暗，抬頭一看，黑壓壓的，滿天烏雲」。該文章作者，最可能遇到下列哪種降雨類型？



- 39 海洋保育組織「Mission Blue」對桃園觀音的大潭藻礁的作為，對臺灣海洋環境的立即性影響，最可能為下列何者？
- (A)政府必須馬上立法保育藻礁
 (B)表示藻礁生態環境得以立即獲得改善
 (C)臺灣可加入得以保護海洋環境國際組織
 (D)非營利組織無法律上的規範性，不會產生立即影響

- 40 分隔臺南市和高雄市的河流，是下列何者？
 (A)高屏溪 (B)鹽水溪 (C)二仁溪 (D)中港溪

- 41 下圖為臺灣某島嶼的圖片，下列哪個島嶼的成因與圖中的島嶼最相似？



- (A)小琉球 (B)龜山島 (C)東沙島 (D)東引島

- 42 「武陵農場有國寶魚－櫻花鉤吻鮭，谷關是中部橫貫公路入山著名景點，高美溼地是賞鳥好去處。」以上描述的是臺灣哪條河川流域的地理景觀？
 (A)大安溪 (B)大甲溪 (C)大肚溪 (D)濁水溪

- 43 下面這幅「最後的晚餐」懸掛在臺灣某縣市的一處天主堂，該壁畫採國畫式畫法，其中耶穌和十二門徒全換成東方臉孔，連餐具、食物也變成筷子和包子，還將當地特色小吃「意麵」融入其中。該處天主堂最可能位於下列哪個縣市？



(A)臺北市 (B)金門縣 (C)臺南市 (D)花蓮縣

- 44 彰化縣社頭鄉早期曾聚集了臺灣近8成的織襪工業，並享有「襪子原鄉」的美譽。社頭得以發展織襪工業的主要原因為下列何者？

(A)勞力充足 (B)盛產棉花 (C)能源豐富 (D)緊鄰海港

- 45 高雄市的各行政區中，哪兩個行政區的名稱由來與漁業活動的關係最為密切？

(A)楠梓、梓官 (B)鹽埕、新興 (C)旗津、苓雅 (D)茄萣、鳥松

- 46 澎湖縣政府從2001年開始，在冬季時皆會舉行「澎湖風帆觀光節」，邀請亞洲地區各國風帆好手至澎湖海域參加競賽，以帶動觀光休閒活動產業。下列哪項自然因素，有利於澎湖在冬季推展風帆運動？

(A)黑潮洋流 (B)東北季風 (C)西南季風 (D)親潮洋流

- 47 澎湖望安島有一處背山面海的大洞穴，約在1944年前後由人工挖掘而成，是為了藏匿當時震洋艦隊的秘密小艇，以待敵方軍艦出現時，迎頭痛擊。該艦隊最可能是由哪個國家設立？

(A)荷蘭 (B)日本 (C)美國 (D)西班牙

- 48 臺灣的公路命名東西向以偶數表示，南北向以奇數表示，且又分為國道、快速道路、省道、縣道、鄉道等各種等級。下列何者是聯絡臺中盆地到埔里盆地的國道編號？

(A)國道1號 (B)國道3號 (C)國道5號 (D)國道6號

- 49 從臺北火車站搭乘火車前往宜蘭，沿途「不會」經過哪一站？

(A)瑞芳站 (B)汐止站 (C)平溪站 (D)礁溪站

50 請根據下面兩張照片，判斷這是臺灣哪個原住民族？



(A)達悟族 (B)西拉雅族 (C)賽德克族 (D)撒奇萊雅族

51 新北市新莊區樂生療養院於1927年設立，是見證臺灣近代防疫史的重要史蹟，也是反省疾病人權的最佳空間。但多年前卻因某項建設，使得其存廢問題沸沸揚揚。該建設最可能是下列何者？

(A)高鐵車站 (B)捷運機廠 (C)核電四廠 (D)六輕工廠

52 臺灣福爾摩沙衛星五號已於2018年升空，其任務開始執行後，下列哪些相關研究可藉助其衛星資料完成？(甲)梅雨鋒面雲系研究；(乙)天然氣資源分佈探勘；(丙)森林火災延燒範圍；(丁)西南沿海沙洲面積的增減

(A)甲乙丙 (B)甲乙丁 (C)甲丙丁 (D)乙丙丁

53 新台幣一千元紙鈔背面印有臺灣重要的地形景觀與生物景觀（下圖），其中的山峰與動物是下列何者？



(A)玉山、帝雉 (B)雪山、帝雉 (C)玉山、藍腹鷓鴣 (D)雪山、藍腹鷓鴣

54 在大航海時代，西班牙船隊航行世界各地，其地名亦隨之散播各處，其中「聖地牙哥」地名同時出現在美國、智利、古巴還有臺灣。臺灣的「聖地牙哥」即今日何處？

(A)鼻頭角 (B)三貂角 (C)富貴角 (D)鵝鑾鼻

55 目前臺灣在歐洲唯一的邦交國位於下圖中的哪一處？



(A)甲 (B)乙 (C)丙 (D)丁

56 地理課時老師要大家舉例說明「氣候」。甲：「今天天氣很不好」；乙：「颱風每年在夏秋之際侵襲臺灣」；丙：「嘩啦啦...下雨了，看到大家都在跑」；丁：「氣候像人的心情，晴時多雲偶陣雨」；戊：「臺灣夏季西南季風盛行」。哪些人的舉例是正確的？

(A)甲丁 (B)乙丙 (C)乙戊 (D)丙丁

57-58題為題組

◎下圖為地理老師在屏東旅遊時拍到的一張照片。請問：



57 這張照片拍攝的時間最可能是下列何者？

- (A)4月 (B)6月 (C)8月 (D)10月

58 地方政府在宣傳下列哪項特產時，會標榜與照片中的特殊風有關？

- (A)洋蔥 (B)蓮霧 (C)黑鮪魚 (D)櫻花蝦

59-60題為題組

◎根據科學調查，桃園藻礁的形成已超過七千年以上，其主要是由「殼狀珊瑚藻」附著在海岸的大片礫石灘上，逐漸鈣化累積而成。加以當地的漂砂與水溫狀況不利珊瑚礁發育，才能建造成形成大面積的藻礁地形。藻礁是許多生物的重要棲地，如柴山多杯孔珊瑚、紅肉丫髻鮫、裸胸鯨、螃蟹等。2019年2月22日，國際知名的非營利海洋保育組織「Mission Blue」（藍色任務）正式發函，確認將桃園觀音的大潭藻礁列入全球數個「希望熱點」

（Hope Spots）之一。但近期因為中油第三天然氣接收站的興建計畫，使得藻礁生態再次面臨嚴重的威脅。請問：

59 依據上文，桃園沿海「殼狀珊瑚藻」最初所附著生長的礫石灘，其礫石的主要來源為下列何者？

- (A)古石門溪沖積扇的堆積物
(B)林口臺地礫石層崩塌被搬運至此
(C)桃園海岸古沙丘的堆積物
(D)淡水河口礫石被沿岸流搬運至此

60 預定興建的中油第三天然氣接收站，在環境評估上，將可能產生「突堤效應」。依據下圖，在冬天季風與海流的影響下，圖中各地區的海岸變化最可能為下列何者？



- (A) 甲—侵蝕，礁體露出更多
- (B) 乙—堆積，礁體被砂埋沒
- (C) 丙—堆積，礁體被砂埋沒
- (D) 丁—侵蝕，礁體露出更多

郵政外勤臺灣自然及人文地理 模擬試題詳解

【問題1】 答案：A

連江縣下設南竿、北竿、東引。

【問題2】 答案：D

稻米、蔗糖產地主要位在中南部，鹿皮則是在山區居多，茶葉的產地則主要為北部丘陵地區。清末，因大稻埕發展茶葉，導致茶葉生意良好，重心由南部的甘蔗轉往北部的茶葉。

【問題3】 答案：B

阿猴城門，正名為阿猴城朝陽門，是指台灣屏東市阿猴城中唯一留下之城門遺址。位置為現屏東公園內，當前指定為屏東縣縣定古蹟。

【問題4】 答案：B

玉山山脈區域範圍位居台灣中央地帶，地跨花蓮、高雄、南投、嘉義4縣市，是濁水溪、高屏溪及秀姑巒溪三大河川最重要的上游集水區。

【問題5】 答案：D

早期客家人自大陸來台開墾，因新竹地區土壤貧瘠、水分少，無法種稻，只好種柿子，並利用新竹特有的「九降風」，將秋季盛產的柿子，風乾成柿餅，利於保存及攜帶。隨時代遷移，漸漸發展出特有的「柿餅產業」。新竹新埔的旱坑里匯聚了許多家柿餅店。

【問題6】 答案：C

澎湖天后宮，位於台灣澎湖縣馬公市，主祀天上聖母媽祖。天后宮確切創建年代不詳，隨著「沈有容諭退紅毛番韋麻郎等」石碑出土，確定於大明萬曆卅二年即已立廟，台灣歷史最悠久的廟宇。

【問題7】 答案：B

百合花為魯凱族族花，崇拜百步蛇。

【問題8】 答案：C

風雞朝向主要強勁季風的風向(東北方)，則隱含了擋風、止風的用意，後遂衍生成風雞具有鎮邪、制風煞的作用

【問題9】 答案：C

那瑪夏區，是高雄市的一個市轄區。

【問題10】 答案：B

由於沙烏地阿拉伯以無息貸款予中華民國3,000萬美元，使此橋得以興建，因此完工後奉行政院核定命名為中沙大橋來表彰紀念。

【問題11】 答案：B

臺南市，是臺灣人口最少、人口密度最低的直轄市。

【問題12】 答案：A

苗栗縣縣名來自原住民道卡斯族巴利社（Bari），其社名之原住民語意為平原。

【問題13】 答案：D

一間房子最好屋前有一個魚池，後有果樹，合院建築符合此特性。

【問題14】 答案：D

白海豚主要棲息在苗栗縣通霄鎮到雲林縣臺西鄉的海域。為讓漁民和社會大眾了解白海豚的生態，農委會林務局利用梧棲港的漁民活動中心空間，設置臺灣首座「白海豚生態教室」。

【問題15】 答案：B

熱帶氣候四季界限不明顯，日溫度起伏高於年溫度變起伏，全年溫度較高，亞熱帶氣候受太陽大角度斜射，暖熱多雨，台灣中南部地區夏季西南季風吹拂而降雨量大，冬季則無東北季風吹拂而少雨，因而適合香蕉生長。

【問題16】 答案：B

紐西蘭毛利族語言學者來到南島語族發源地台灣，直奔阿美族太巴壠部落，見到部落Kakitaan祖祠的形制和毛利人的聚會所幾乎完全相同，就連語言、傳說都類似，他們流淚唱起毛利人禱歌，向祖先報告「我們回來了」！部落頭目王成發盛裝迎接，見到「兄弟」來訪，也感動流淚。

【問題17】 答案：C

(C)臺中市石「岡」區。

【問題18】 答案：C

台灣南部區域降水大多集中在夏季颱風降水。冬天則因東北季風，而南部因為是背風坡所以無雨。

【問題19】 答案：B

芳苑燈塔的塔高是37.4公尺，燈高是35.7公尺，為臺灣本島唯一塔高高於燈高的燈塔。

【問題20】 答案：D

焚風是出現在山脈背面的乾熱風，從山上沿山坡向下吹，台東-成功地區時常出現。

【問題21】 答案：A

瑠公圳，位於臺北。

八堡圳，位於彰化。

葫蘆墩圳，位於臺中市豐原區。

曹公圳，位於高雄。

【問題22】 答案：A

飛機使運輸時間大大縮短。

【問題23】 答案：D

西螺鎮，別稱螺陽，位於台灣雲林縣北端，北隔濁水溪與彰化縣相鄰，以稻米、醬油及西螺大橋聞名各地，為雲林地區重要的農業鄉鎮之一。

【問題24】 答案：C日月潭在清朝時即被選為台灣八大景之一，有「海外別一洞天」之稱。2009年入選世界紀錄協會「台灣最大的天然淡水湖」。日月潭之美在於環湖重巒疊峰，湖面遼闊，潭水澄澈；一年四季，晨昏景色各有不同。七月平均氣溫不高於攝氏二十二度，一月不低於攝氏十五度，夏季清爽宜人，為避暑勝地。

【問題25】 答案：B

因新加坡地比台灣更小，並農業產值低，多仰賴外過進口，對本土農業的衝擊可能最小。

【問題26】 答案：B

茂林國家風景區位於台灣高雄市與屏東縣交界處。轄區南北狹長，地處中央山脈尾端西斜面山麓，荖濃溪、濁口溪、隘寮溪穿流其中，雕琢出獨特的環流丘地形。加上魯凱族的傳統民風，營造出豐富的自然景觀與原住民文化。茂林也有著著名的紫斑蝶遷徙。

【問題27】 答案：A

港埔里是少數海岸可見到沙岸生態系

【問題28】 答案：B

少子化是指生育率降低，老人人口高達7%是高齡化社會，導致幼年人口比例逐漸減少的現象。

【問題29】 答案：B

宜蘭克里奧爾語，為台灣原住民泰雅族及賽德克族都達群在宜蘭縣的大同鄉寒溪部落、南澳鄉澳花部落及東澳部落等經集團移住造成泰雅、賽德克族混居之部落所使用的克里奧爾語，早期學者將其併歸於泰雅語群之內。寒溪語為以泰雅語詞彙為基礎，再加入大量的日語詞語與語法，經語言石化過程混合而成的新語種，謂之宜蘭克里奧爾語。

【問題30】 答案：D

宜蘭地區多雨，陰天的比率也很高，裝置太陽能光電板確實不合成本效益，在台灣中南部地區陽光強烈又少雨的地區較適合。

【問題31】 答案：B

2003年，文建會(現升格為文化部)將「金瓜石聚落」更名為「水金九礦業遺址」。以黃金博物館為中心，搭配周邊水湳洞、金瓜石與九份等景點，如陰陽海、十三層遺址、黃金瀑布、金瓜石車站、大肚美人山、九份老街等，期待更完整的保存礦業遺產面貌及豐富的人文及自然資源。

【問題32】 答案：A

臺灣原來存在著兩種貓科動物：雲豹和石虎，但在近年學者認定雲豹已經走上滅絕之路，因此石虎就成為臺灣僅存的野生貓科動物。因為人類活動的影響，石虎分布範圍可能僅剩苗栗至嘉義間的淺山環境，而近幾年實際發現石虎的地區只有苗栗、台中、南投。

【問題33】 答案：C

臺灣再生能源發電量由大到小排列：水力、廢棄物發電、風力發電、太陽光電。

【問題34】 答案：B

台灣農業沒落原因，普遍是產業人口老化，年輕族群前往都市發展，導致農業勞力不足。

【問題35】 答案：D

(D)台灣目前問題應該是老年人口過多。

【問題36】 答案：A

以1：500最接近。

【問題37】 答案：C

由太陽自轉方向判定，東升西落，所以圖的左方為東，上方為南，右方為西，下方為北。

【問題38】 答案：A

對流雨：夏季高溫，空氣膨脹上升，產生強烈對流，水因凝結而降水，如午後雷陣雨。特徵為雨時短、雨區小、雨勢強。

【問題39】 答案：D

非營利組織無法律上的規範性，不會產生立即影響，我國於2021年底進行公投，最終「珍愛藻礁公投」不同意票416萬。

【問題40】 答案：C

二仁溪位於台灣西南部，屬於中央管河川，舊名為二層行溪，取自中下游聚落名。亦為高雄市與台南市的界河，源於高雄市內門區內興里山豬湖山（海拔460公尺），主流長度約63.20公里。

【問題41】 答案：B

蘭嶼與龜山島皆為火山島。

【問題42】 答案：B

櫻花鉤吻鮭僅存於七家灣溪(大甲溪)，且只生存在16度的溪水中。

【問題43】 答案：C

台南鹽水天主堂被網友喻為「全台最可愛教堂」，教堂裡「最後的晚餐」的壁畫，因為「入境隨俗」，耶穌和門徒都穿著古代中式文人服飾，留長鬚、結髮髻、頭戴綸巾，菜色是包子和麵條，很有本土風。這座因中西合璧壁畫享名的教堂，如今壁畫斑駁、屋頂漏水。

【問題44】 答案：A

彰化縣社頭鄉是台灣織襪工業發展40年來的大本營，這裡出產的襪子幾乎佔全台灣90%。在社頭鄉有高達 500家以上的織襪廠，從業人員約1萬8千人，這裡的廠商幾乎不請外勞，都是在地夫婦一同工作，社頭鄉製造業中有將近二分之一從事織襪業。

【問題45】 答案：C

旗津約在十七世紀末至十八世紀中葉由高屏溪沖刷下來的泥沙沉積而成，最初為一個小沙洲，後來泥沙沉積越多，慢慢形成一個半島地形。

苓雅區之地名，源自該區靠海岸的一部分「苓仔寮」。「苓仔」是指漁網，本區因為濱海而漁產豐盛，早期漁民捕魚後，便在岸邊興建一個存放網具的場所，故得名，後因取諧音及雅字，改為「苓雅寮」。

【問題46】 答案：B

澎湖縣在冬季時吹著東北季風，故於冬季會舉行「澎湖風帆觀光節」，邀請亞洲地區各國風帆好手至澎湖海域參加競賽，以帶動觀光休閒活動產業。

【問題47】 答案：B

1941年日本在珍珠港得到勝利後，在東亞各地找尋背山面水隱密的港口，挖山洞放置震洋艇，從海鋪設輕便道，讓艇可以很快速地推進海裡。震洋艇是長5公尺、一人駕駛的小艇。出任務時，一艘小艇可放250公斤的炸彈，高速靈敏地衝撞目標物，被稱為「海上敢死隊」，與空中神風特攻隊齊名，望安鴛鴦窟也是其中之一基地。

【問題48】 答案：D

國道六號：水沙連高速公路，霧峰－埔里。

【問題49】 答案：C

平溪線是由臺灣鐵路管理局所經營的傳統鐵路支線，最初是為了運輸自沿線礦坑開採而得的煤礦而興建此路線。

【問題50】 答案：A

達悟族舊稱雅美族，源於日本人類學家鳥居龍藏在1897年的調查報告，他在報告中將蘭嶼稱為雅美島）是台灣唯一分佈在台灣離島的原住民族，分布於台灣本島東南外海的蘭嶼上，人口約四千餘人，語言為達悟語，達悟族是海洋民族，以捕魚為主要產業，並以其獨特的飛魚季文化聞名。

【問題51】 答案：B

樂生療養院舊院區是位於臺灣新北市新莊區衛生福利部樂生療養院的舊院區建築，是臺灣最早的漢生病聚落。1994年，台北市政府捷運工程局選定樂生療養院為新莊機廠預定地。

【問題52】 答案：C

衛星資料無法偵測到地底下天然氣的分布。

【問題53】 答案：A

新台幣千元大鈔的背面上有玉山、帝雉。



【問題54】 答案：B

據傳西元1626年，西班牙船艦由菲律賓開抵臺灣東北角海域，因不詳地名為便於記載航海日誌，便以拉丁文命此地為San Diego（聖地牙哥）這是西班牙人的習慣以「聖」為開頭，為外國人最早對臺灣東北角的記錄，早期本地先民便以此譯為閩南語音「三貂」，「三貂」地形是臺灣最東北部的岬角，因而自然得名為「三貂角」。

【問題55】 答案：B

梵蒂岡：教廷國位於義大利首都羅馬，為世界領土面積最小的國家。是我國唯一一個位在歐洲地區的邦交國。

【問題56】 答案：C

甲丙丁指的是天氣，為短時間大氣的變化。

【問題57】 答案：D

恆春半島西岸從每年10月到次年4月間，常發生陣陣強風，有時僅數小時，有時卻可持續數天，這種強風也會將機車和汽車吹翻而造成傷亡的情形，甚至將電力設施吹壞。南迴鐵路在枋山段以東，為避免火車被落山風吹翻，還特地建了擋風牆。這種冷季發生在恆春的強風，是沿其東部山脈順勢而下，一般即名為恆春落山風。因答案選「最可能」，故選10月。

【問題58】 答案：A

落山風讓恆春的洋蔥的葉脈長不高，甚至會彎折，養分因此鎖在球莖內，造成當地洋蔥風味佳、甜度高。

【問題59】 答案：A

桃園藻礁先決條件就是要有硬的底質，才可以讓這些造礁生物附著生長，臺灣西海岸綿延的沙質灘地上，卻在桃園一帶有古石門沖積礫石層，因此造礁生物可以在這裡生長，桃園地區算沙丘地形的最北端，所以積沙的情形還在這些造礁生物的生長容許範圍內，相對的在苗栗海岸，雖有礫石灘，卻因漂沙覆蓋週期過長，礁體累積不足，無法成礁。

【問題60】 答案：A

突堤效應，是由於海堤等人工建構物突出於海岸，延伸而出，阻擋原先沿岸流、海岸飄沙之路徑，造成飄沙於上游側堆積淤沙，而下游側原先有飄沙供應的地區則因為飄沙量減少、短缺，平衡機制遭受破壞，輸出大於輸入，逐漸出現海岸受蝕。換言之，突堤效應將會造成堤前堆積、堤後侵蝕的狀況。